

# **BACCALAUREAT GENERAL**

**Session 2009**

**SCIENCES DE LA VIE ET DE LA TERRE**

**- Série S -**

**ENSEIGNEMENT DE SPECIALITE**

*Durée de l'épreuve : 3 h 30*

*Coefficient : 8*

**L'usage des calculatrices n'est pas autorisé**

**Avant de composer, le candidat s'assurera que le sujet comporte  
bien 4 pages numérotées de 1 à 4**

## Partie I (8 points)

### ***La convergence lithosphérique et ses effets***

Les zones de subduction sont le siège d'importantes activités métamorphique et magmatique.

**Expliquez comment le plongement d'une lithosphère océanique dans le manteau supérieur est à l'origine des changements minéralogiques au sein de cette lithosphère et du magmatisme associé.**

*Votre exposé sera structuré et illustré d'un schéma récapitulatif.*

## Partie II – Exercice 1 (3 points)

### ***Procréation***

Chez les mammifères, au début du développement embryonnaire, les voies génitales sont indifférenciées et sont composées d'une paire de canaux de Wolff et une paire de canaux de Müller.

Chez les mâles, après différenciation des gonades en testicules, les canaux vont se masculiniser pour former les voies génitales mâles.

**A partir des informations extraites du document, précisez comment s'effectue la masculinisation des voies génitales mâles et montrez qu'une hormone testiculaire est nécessaire à cette différenciation.**

## Partie II – Exercice 2 (5 points)

### ***Des débuts de la génétique aux enjeux actuels des biotechnologies***

L'hémophilie A est une maladie héréditaire due à une anomalie d'un facteur de coagulation du sang, le facteur VIII.

Mme X, dont le frère est hémophile, est enceinte et fait pratiquer, sur avis médical, un diagnostic prénatal à six semaines de grossesse.

**A partir de l'exploitation du document 1, indiquez le génotype des différents membres de la famille de Mme X et, en utilisant l'ensemble des documents, discutez de la fiabilité du diagnostic de l'enfant à naître.**

## Partie II – Exercice 1

### Procréation

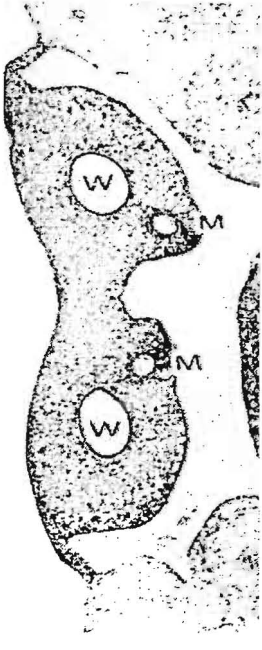
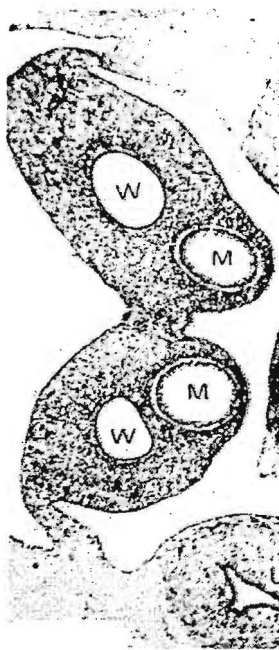
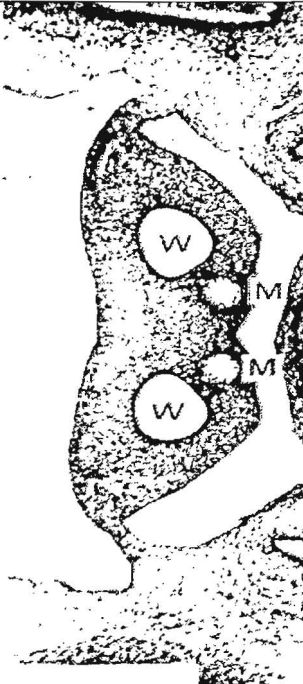
Chez la vache, lors d'une gestation gémellaire (jumeaux), les deux fœtus communiquent fréquemment par voie sanguine au niveau du placenta.

Lorsque les jumeaux sont de sexes différents, les femelles (de génotype XX) sont stériles et présentent des voies génitales masculinisées. Ces femelles sont appelées *free martin*.

Les fœtus mâles (de génotype XY) présentent un développement normal.

**Document :** microphotographies des gonades et des voies génitales chez différents fœtus de veaux de 60 jours (Chez la vache la durée de gestation est de 9 mois)

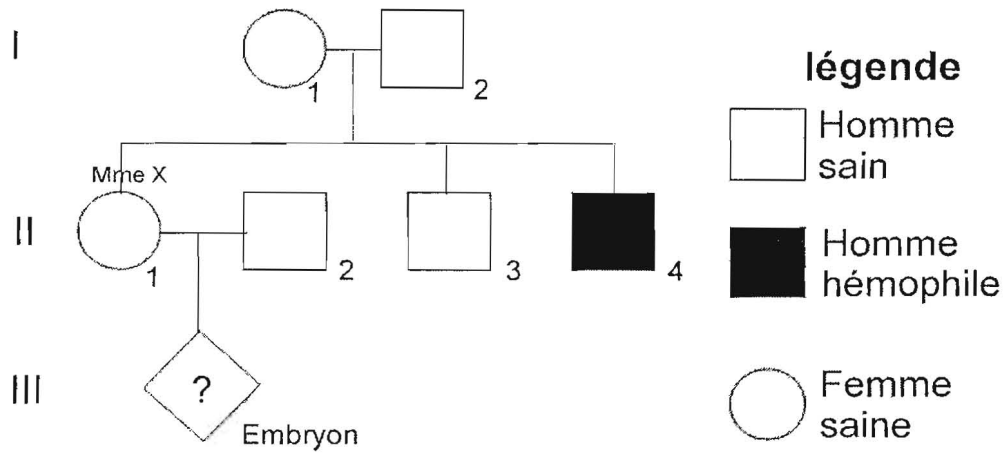
Les 3 photographies sont à la même échelle.

	Fœtus mâle (XY)	Fœtus femelle (XX)	Fœtus <i>free-martin</i> (XX)
Gonade différenciée observée à 60 jours	testicule	ovaire	ovaire
Coupes transversales de la région génitale de fœtus de veaux de 60 jours.  W : Canaux de Wolff M : Canaux de Müller			

D'après « Sciences de la vie et de la Terre », Terminale S. Didier

Partie II – Exercice 2  
*Des débuts de la génétique aux enjeux actuels des biotechnologies*

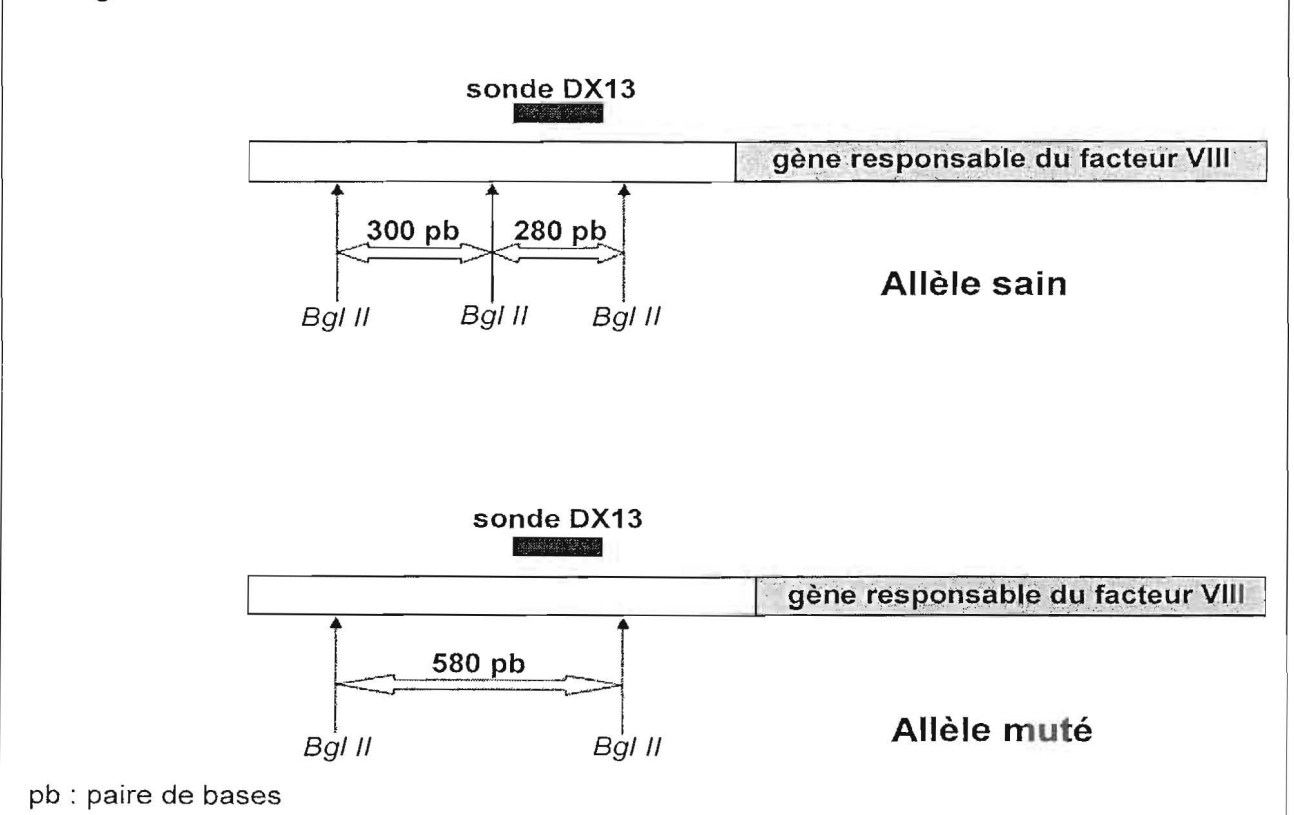
**Document 1** : arbre généalogique de la famille de Mme X



Le gène du facteur VIII est porté sur le chromosome X.

**Document 2** : emplacement des sites de restriction de l'enzyme Bgl II et du site d'hybridation de la sonde DX 13

La sonde DX13 s'hybride avec une séquence complémentaire proche du gène responsable du facteur VIII. Les scientifiques considèrent qu'elle caractérise la mutation de ce gène.



*D'après site UPMC*

**Document 3 : analyses génétiques de membres de la famille de Mme X**

L'analyse du caryotype de l'embryon porté par Mme X indique qu'il a pour formule chromosomique : 46 chromosomes dont XY.

On réalise l'analyse de l'ADN de Mme X, de l'embryon et des hommes II3 et II4.

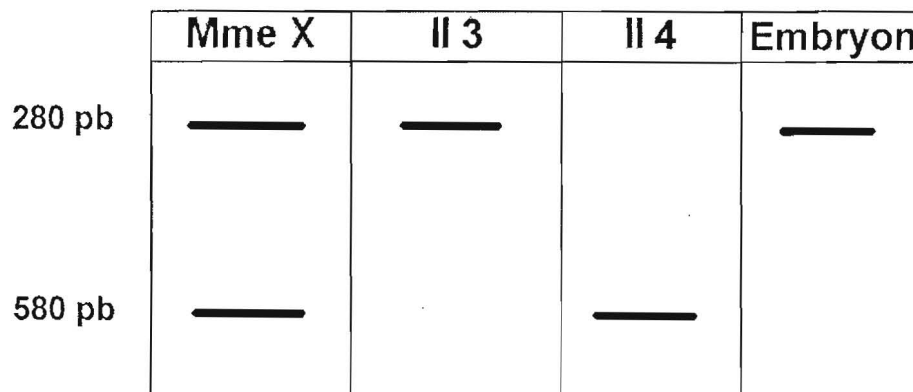
On utilise la technique du Southern blot.

L'ADN du génome est digéré en utilisant l'enzyme de restriction Bgl II.

Les fragments de restriction sont séparés par électrophorèse puis dénaturés.

La sonde radioactive DX13 est utilisée.

Une autoradiographie est réalisée. Les résultats sont présentés ci-dessous.



pb : paire de bases

*D'après site UPMC*