

# BACCALAURÉAT GÉNÉRAL

SESSION 2010

## SCIENCES DE LA VIE ET DE LA TERRE

Série S

Durée de l'épreuve : 3 heures 30

Coefficient : 8

**SPECIALITÉ**

L'usage de la calculatrice n'est pas autorisé.

Dès que le sujet vous est remis, assurez-vous qu'il est complet.

Ce sujet comporte 6 pages, numérotées de 1/6 à 6/6.

## **PARTIE 1 (8 points)**

### **Immunologie**

L'infection d'un organisme par un virus comme celui de la grippe, déclenche une réponse immunitaire qui permet la protection contre ce virus.

**Expliquez les mécanismes qui conduisent l'organisme infecté par un virus à produire, en grand nombre, des cellules immunitaires efficaces dans la défense contre ce virus.**

*Vous n'aborderez pas les mécanismes de la destruction des cellules infectées.*

*Votre réponse structurée, comportera une introduction, une conclusion, et un développement illustré par des schémas appropriés, dont, obligatoirement un, montrera la coopération cellulaire indispensable.*

## **PARTIE 11- Exercice 1 (3 points)**

### **La mesure du temps dans l'histoire de la Terre et de la vie**

Les transformations minérales d'une roche peuvent être déduites de l'étude de lames minces.

**En exploitant les relations des minéraux entre eux, proposez, en l'argumentant, l'ordre d'apparition des minéraux présents dans la roche du document.**

## **PARTIE II - Exercice 2 (5 points)**

### **Du passé géologique à l'évolution future de la planète**

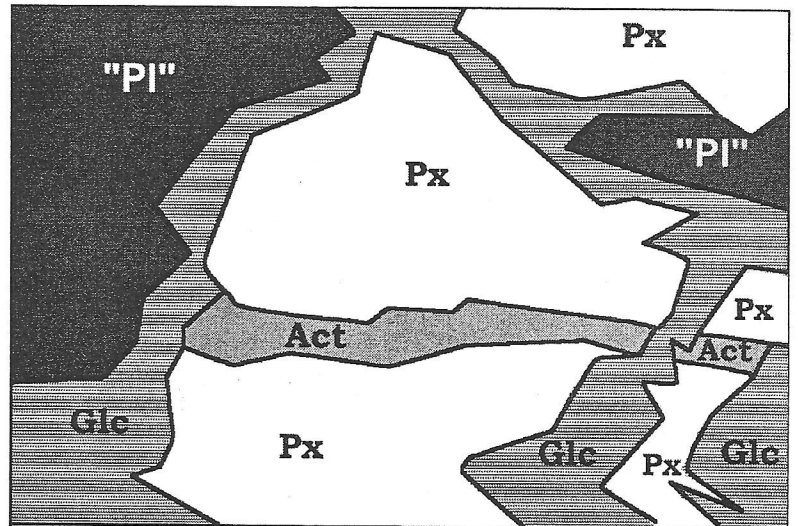
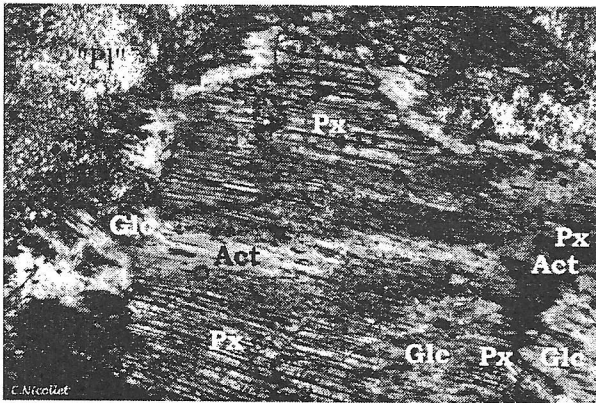
Les grandes chaînes de montagne comme l'Himalaya se sont mises en place au cours du Cénozoïque. Cette période est marquée, depuis le milieu de l'Eocène, par un refroidissement du climat.

**En mettant en relation les informations extraites des documents avec vos connaissances, montrez l'influence de la formation des chaînes de montagne et de leur érosion, sur les variations climatiques pour de grandes échelles de temps.**

## PARTIE 11- Exercice 1

**Document:** photographie en LPNA (Lumière Polarisée Non Analysée) d'une lame mince d'un métagabbro et son schéma d'interprétation.

Métagabbro trouvé dans la vallée du Guil, dans les Alpes. La roche, à l'état initial, contenait des pyroxènes et des plagioclases.

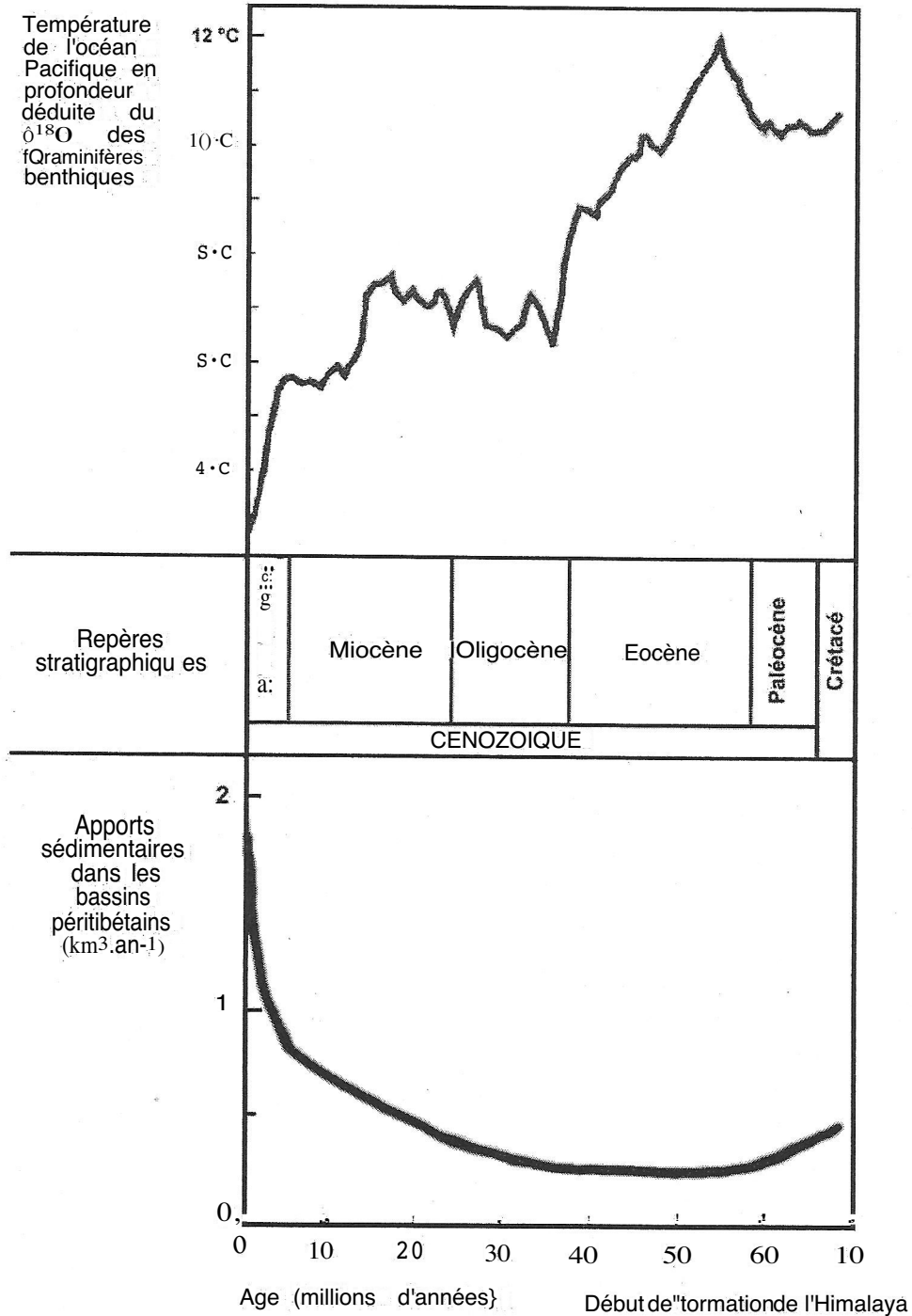


P.FABRE.2009 d'après photographie C.NICILLET

"Pl" = «plagioclase», Px = pyroxène, Act = actinote et Glc = glaucophane

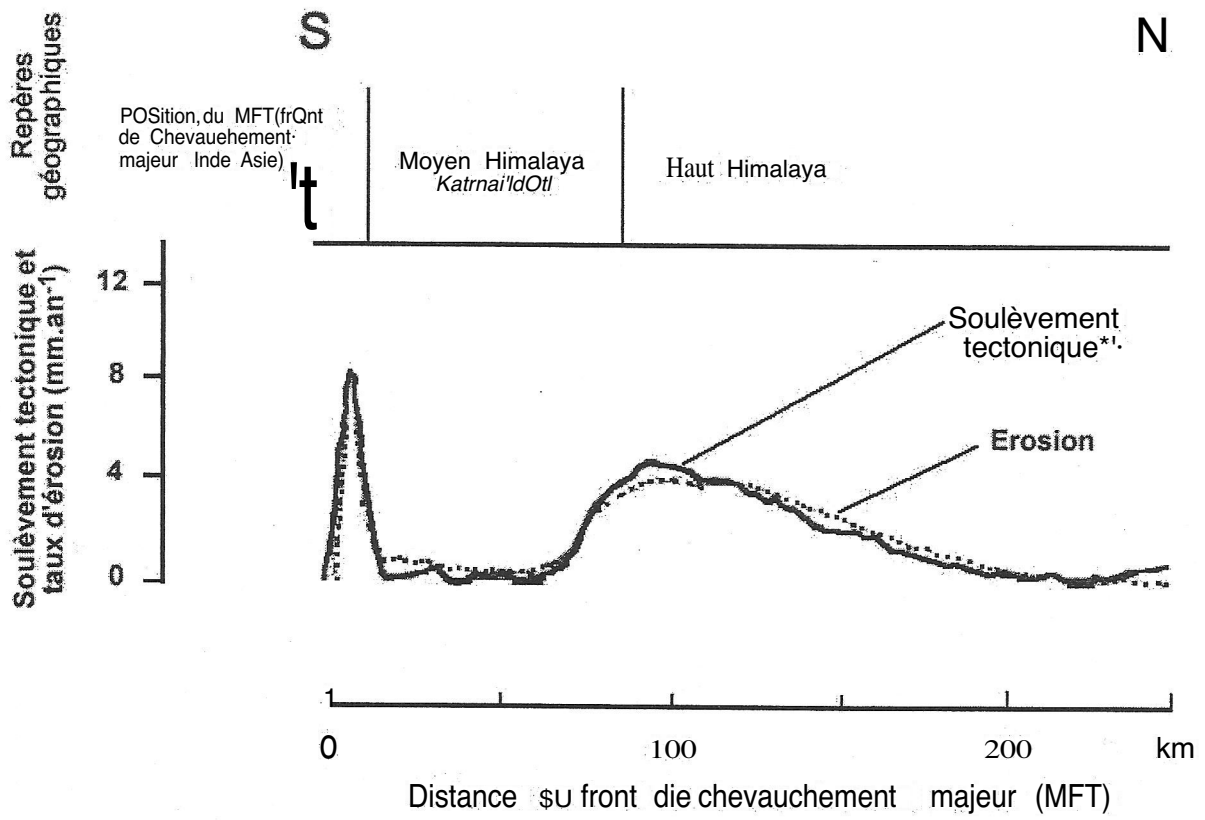
## PARTIE II - Exercice 2

**Document 1** : variations de la température des eaux océaniques profondes du Pacifique et des apports de sédiments par les rivières, dans les bassins péritibétains depuis 70 millions d'années.



(D'après Avouac et al. « Himalaya - Tibet, le choc des continents ». CNRS éditions, 2002)

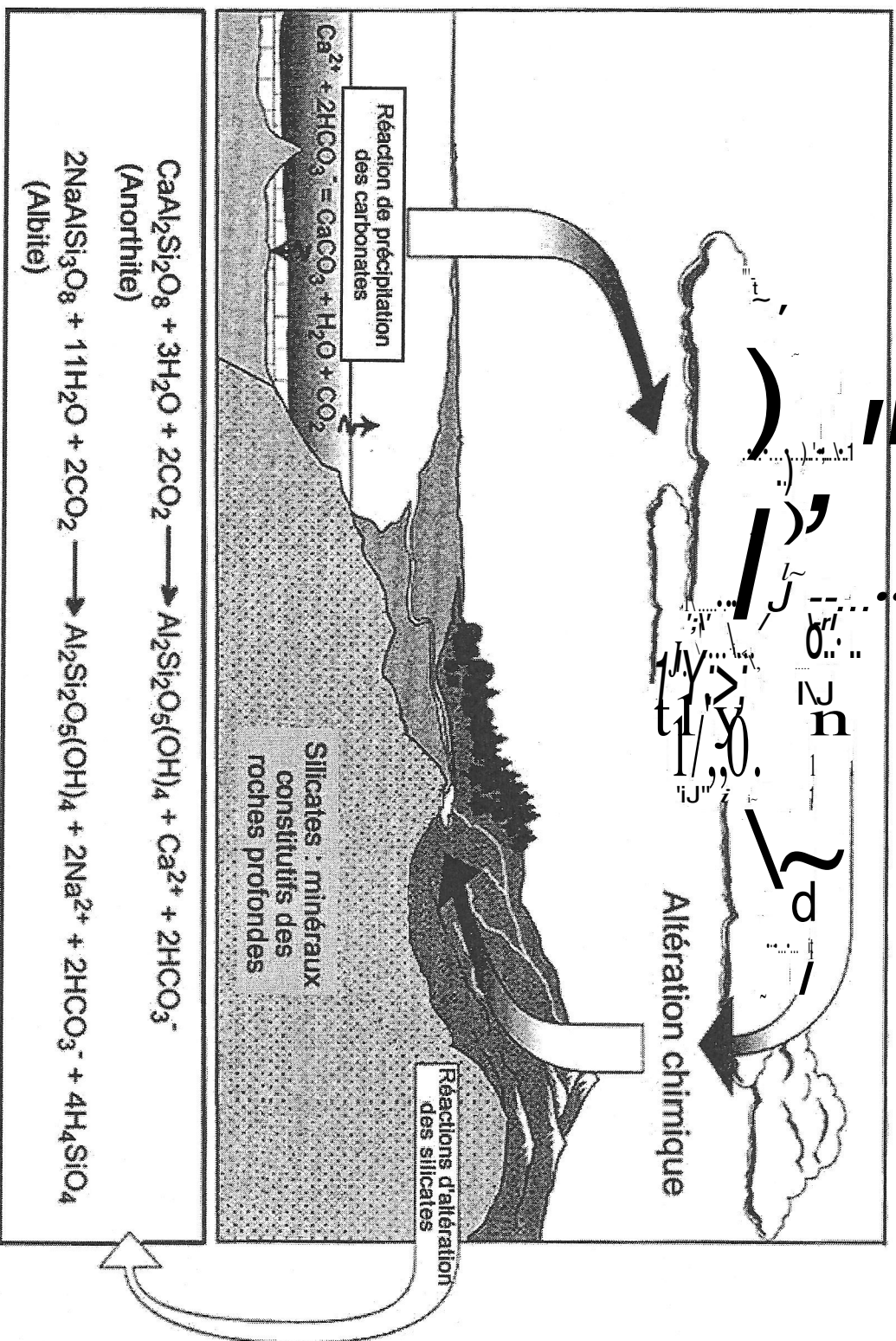
Document 2 : couplage entre tectonique et érosion pour la chaîne himalayenne (estimé par une modélisation numérique, validée par des mesures de terrain)



\*Le soulèvement tectonique amène en surface des roches profondes riches en silicates. Ce phénomène est accentué par l'action de l'érosion.

(D'après Avouac et al. « Himalaya - Tibet, le choc des continents ». CNRS éditions, 2002)

**Document 3** : les processus d'altération des silicates dans le cycle (simplifié) de  $\text{CO}_2$



In Rotaru et al, « Les climats passés de la Terre » - fig 3.6 (modifiée) p. 103 - Vuibert, 2006

*L'anorthite et l'albite sont deux minéraux silicatés de la famille des feldspaths plagioclases*