

BACCALAURÉAT GÉNÉRAL

SESSION 2007

HISTOIRE - GÉOGRAPHIE

Série : S

DUREE DE L'ÉPREUVE : 4 heures

SERIE S : coef. 3

Les calculatrices ne sont pas autorisées.

Ce sujet comporte 9 pages numérotées de 1/9 à 9/9.

*Le candidat doit traiter UN des trois sujets d'histoire
de la première partie et UN des deux sujets de géographie
de la deuxième partie*

*(La feuille annexe sur laquelle le candidat réalise le croquis de géographie
est àagrafer avec la copie.)*

Première partie

HISTOIRE

Le candidat choisit UN des trois sujets proposés.

SUJET I. COMPOSITION

L'Europe au cœur de la confrontation est-ouest de 1947 à 1991.

SUJET II. COMPOSITION

Les institutions de la V^e République : naissance, organisation, fonctionnement.

SUJET III.
ÉTUDE D'UN ENSEMBLE DOCUMENTAIRE

Quelle est la place de l'arme nucléaire dans les relations internationales depuis 1945 ?

Document n° 1 : publicité américaine de 1951 pour un abri anti-atomique.

Document n° 2 : extraits de la lettre de N. Khrouchtchev à F. Castro le 30 octobre 1962 à la fin de la crise des missiles de Cuba.

Document n° 3 : extrait des Mémoires d'Espoir du général de Gaulle.

Document n° 4 : dessin de presse, paru dans le périodique satirique soviétique Krokodil 2 juillet 1973.

Document n° 5 : le nucléaire militaire dans le monde depuis 1945.

Questions

Première partie


Analysez l'ensemble documentaire en répondant aux questions suivantes :

1. Après avoir présenté le contexte international au début des années 1950, précisez quelle menace évoque le document 1 ? Justifiez votre réponse.
2. Comment Khrouchtchev analyse-t-il le risque nucléaire à l'occasion de la crise de Cuba ? (Document 2)
3. À l'aide des documents 3 et 5, expliquez quels ont été les choix français en matière de défense nucléaire.
4. Quelle évolution est perceptible dans les relations internationales au début des années 1970 ? (Document 4)
5. À l'aide d'un ou deux exemples choisis dans le document 5, montrez quelle place dans les relations internationales tient actuellement le risque nucléaire.

Deuxième partie

À l'aide des réponses aux questions, des informations contenues dans les documents et de vos connaissances, rédigez une réponse organisée au sujet : « quelle est la place de l'arme nucléaire dans les relations internationales depuis 1945 ? »

Document n°1 : Publicité américaine de 1951 pour un abri anti-atomique.



« Ils peuvent survivre. Protégez votre famille »

Document n° 2 : Extraits de la lettre de N. Khrouchtchev à F. Castro le 30 octobre 1962 à la fin de la crise des missiles de Cuba.

Cher camarade Fidel Castro,

(...)

Nous comprenons que, pour vous, certaines difficultés aient pu surgir à la suite de notre promesse faite aux États-Unis de retirer de Cuba la base de fusées, en échange de l'engagement des États-Unis d'abandonner leurs plans d'invasion de Cuba par leurs troupes et celles de leurs alliés de l'hémisphère occidental, de mettre fin ainsi à ce qu'on appelle la « quarantaine », autrement dit le blocus de Cuba ! Cet engagement a conduit à la fin du conflit dans la zone des Caraïbes, conflit qui impliquait, vous le comprenez bien, le choc des superpuissances et sa transformation en une guerre mondiale où seraient utilisés l'arme thermonucléaire et les missiles. (...)

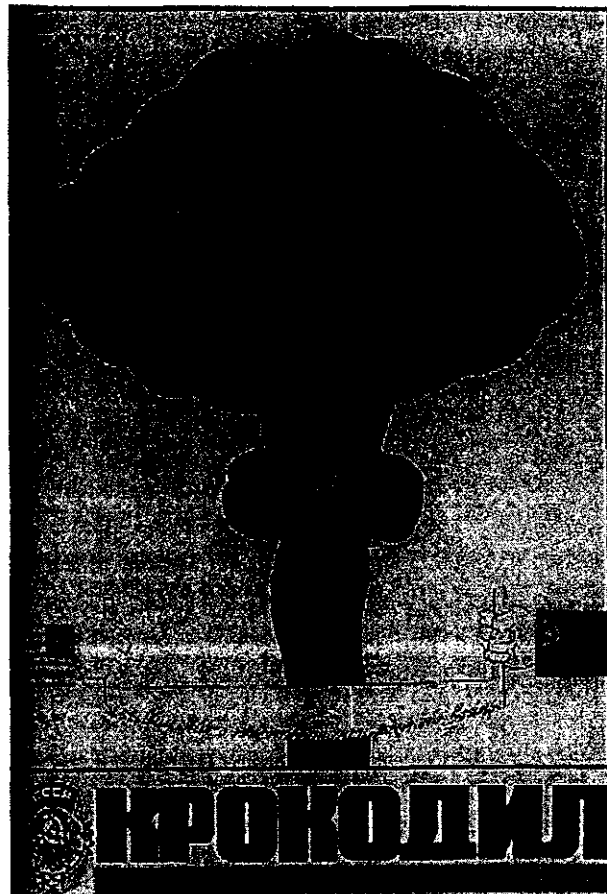
Si, en cédant au sentiment populaire, nous nous étions laissés entraîner par certaines couches enflammées de la population et si nous avions refusé de conclure un accord raisonnable avec le gouvernement des USA, probablement la guerre aurait été déclenchée faisant des millions de morts et les survivants auraient dit que la faute en incombait aux dirigeants pour n'avoir pas pris les mesures nécessaires pour conjurer cette guerre d'anéantissement. (...)

Document n° 3 : Extrait des Mémoires d'espoir du général de Gaulle (tome 1, le renouveau, 1958-1962) sur l'indépendance nucléaire française.

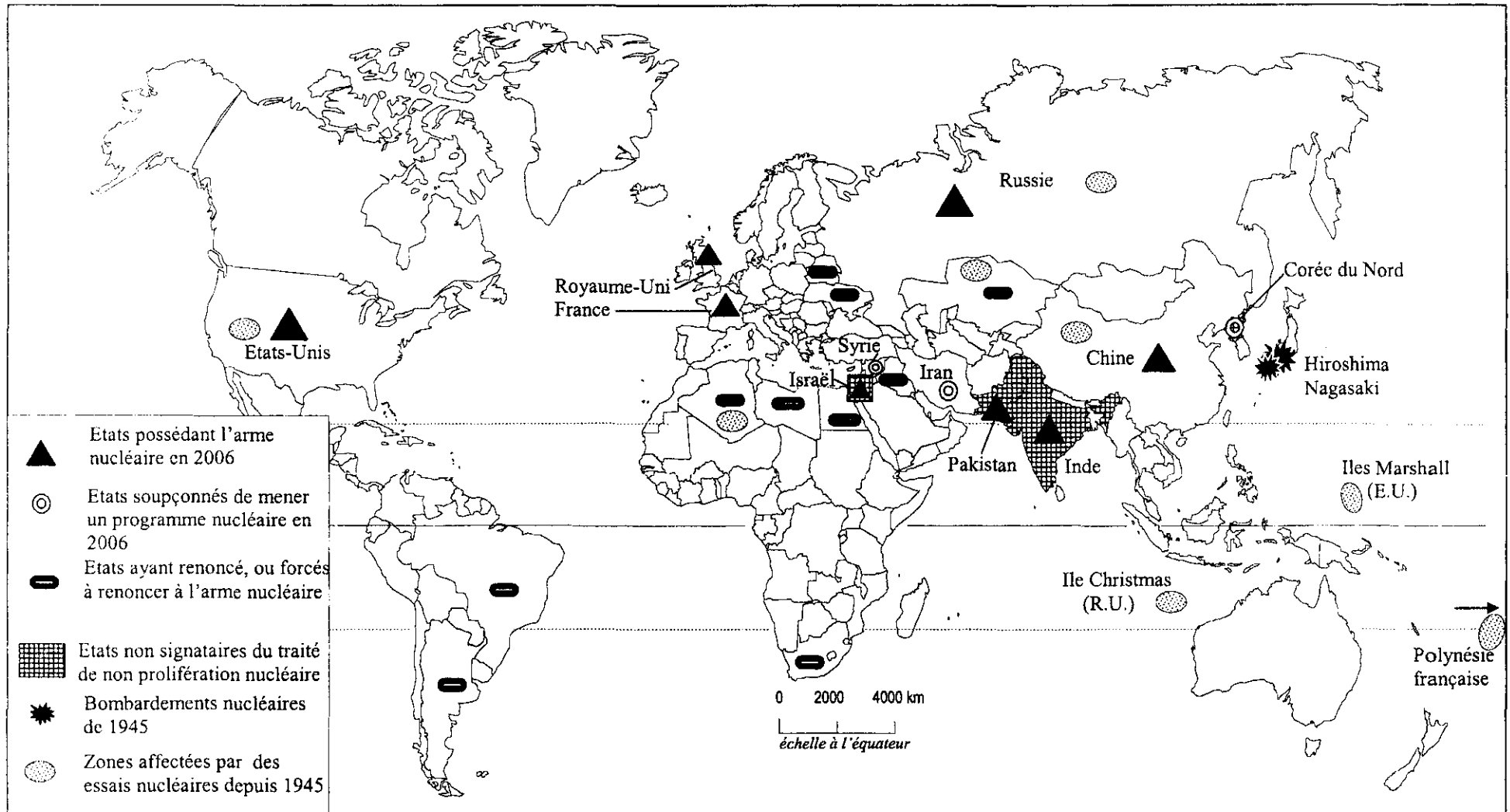
(...)

Notre pays est, suivant moi, en mesure d'agir par lui-même en Europe et dans le monde, et il doit le faire parce que c'est là, moralement, un moteur indispensable à son effort. Cette indépendance implique, évidemment, qu'il possède, pour sa sécurité, les moyens modernes de la dissuasion. Eh bien ! Il faut qu'il se les donne. Mon dessein consiste donc à dégager la France, non pas de l'alliance atlantique que j'entends maintenir à titre d'ultime précaution, mais de l'intégration réalisée par l'O.T.A.N. sous commandement américain ; à nouer avec chacun des Etats du bloc de l'Est et, d'abord avec la Russie, des relations visant à la détente, puis, à l'entente et à la coopération ; à en faire autant, le moment venu, avec la Chine ; enfin, à nous doter d'une puissance nucléaire telle que nul ne puisse nous attaquer sans risquer d'effroyables blessures. Mais, ce chemin, je veux le suivre à pas comptés, en liant chaque étape à l'évolution générale et sans cesser de ménager les amitiés traditionnelles de la France. (...)

Document n° 4 : dessin de presse paru dans le périodique satirique soviétique Krokodil de juillet 1973.



Document n°5 : Le nucléaire militaire dans le monde depuis 1945



D'après B. Martin, *L'Atlas de la mondialisation*, Presse de Sciences Po, Paris, 2006.

Deuxième partie

GÉOGRAPHIE

CROQUIS DE GÉOGRAPHIE :

Le candidat choisit UN des deux sujets proposés.

Il réalise un croquis à partir du fond de carte fourni, accompagné d'une légende organisée.

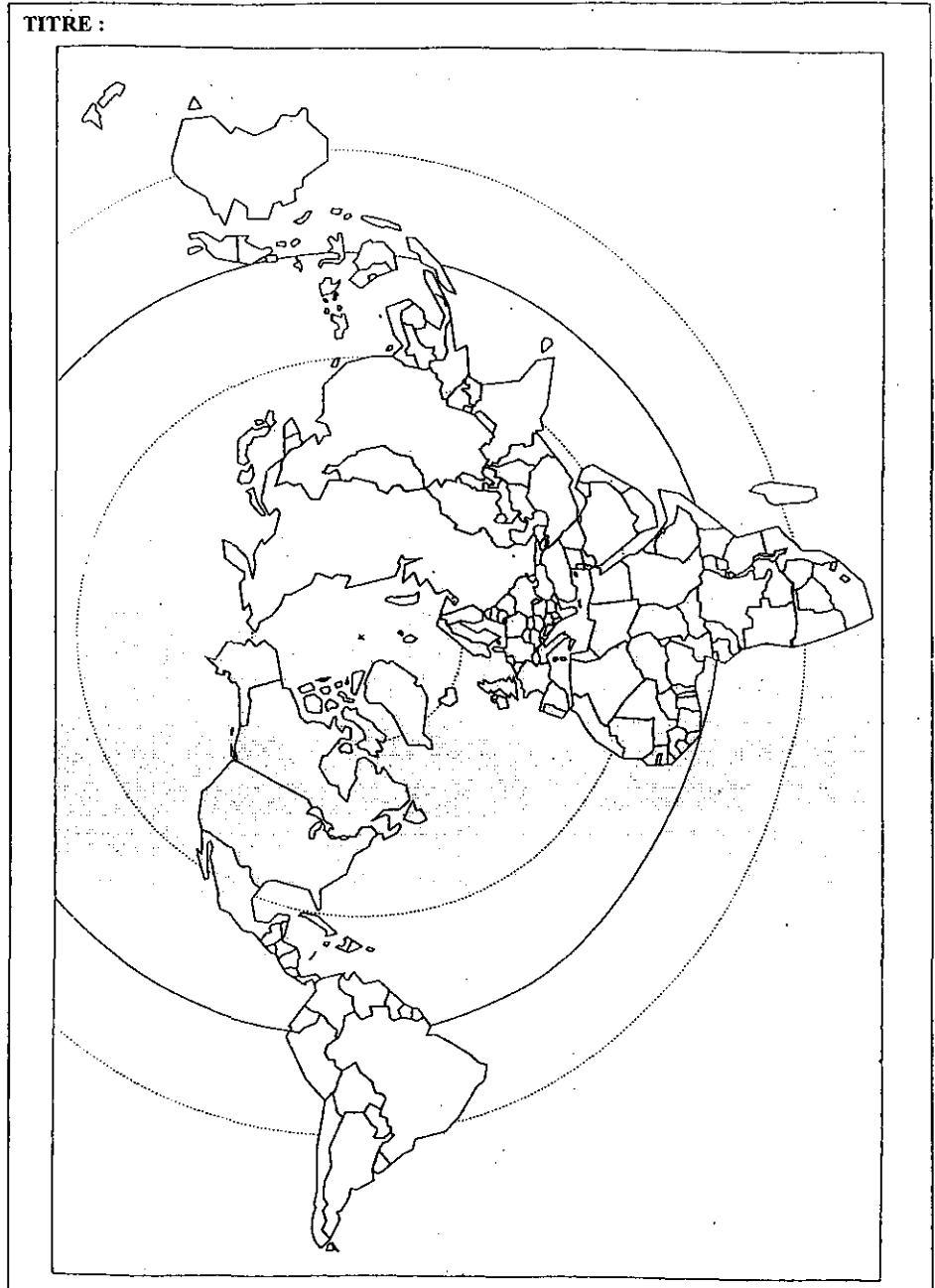

SUJET I.

L'organisation de l'espace de la mégalopole japonaise.
Utiliser le fond de carte page 8.

SUJET II.

Centres et périphéries dans l'espace mondial.
Utiliser le fond de carte page 9.

Voir feuilles annexes, pages 8/9 et 9/9



LEGENDE :

TITRE :

