

BACCALAURÉAT GÉNÉRAL

Session 2008

HISTOIRE – GÉOGRAPHIE

Séries L et ES

Série L : coefficient 4

Série ES : coefficient 5

Durée de l'épreuve : 4 heures

L'usage de la calculatrice n'est pas autorisé.

Le sujet comporte 11 pages numérotées de 1/11 à 11/11.

Le candidat doit traiter :

UN des trois sujets d'histoire de la première partie

ET

UN des deux sujets de géographie de la deuxième partie.

PREMIÈRE PARTIE

HISTOIRE

Le candidat choisit **UN** des trois sujets proposés

SUJET I

COMPOSITION

Les institutions de la Vème République et leurs pratiques depuis 1958

SUJET II

COMPOSITION

L'URSS et les démocraties populaires 1947-1989

SUJET III**ÉTUDE D'UN ENSEMBLE DOCUMENTAIRE****Réalités et limites du Tiers-Monde de 1955 aux années 1970****Documents :**

- Document 1 : Extraits du discours de clôture de Nehru à la conférence de Bandung, avril 1955
Document 2 : Les non-alignés entre les deux Grands, caricature de Plantu
Document 3 : Allocution de Julius Nyerere
Document 4 : Le Tiers-Monde dans les années 1970
Document 5 : L'évolution des prix des exportations

Première partie :

Analysez l'ensemble documentaire en répondant aux questions suivantes :

- 1 - Définissez à l'aide des documents 1 et 3 la notion de Tiers-Monde.
- 2 - Par quels moyens les pays du Tiers-Monde font-ils entendre leurs revendications ? (Documents 1 et 3)
- 3 - Expliquez la distinction faite par Nehru entre la situation de l'Asie et celle de l'Afrique. (Document 1)
- 4 - A l'aide des documents 3 et 5 expliquez la phrase soulignée dans le document 3.
- 5 - Montrez la diversité des Etats du Tiers-Monde dans les années 1970. (Documents 2, 3 et 4)

Deuxième partie :

A l'aide des réponses aux questions, des informations contenues dans les documents et de vos connaissances, rédigez une réponse organisée au sujet : **réalités et limites du Tiers-Monde de 1955 aux années 1970.**


Document 1 : Extraits du discours de clôture par Nehru à la conférence de Bandung

Il n'y a plus d'Asie soumise (...). Nous sommes résolus à n'être d'aucune façon dominés par aucun pays, par aucun continent. Nous sommes des grands pays du monde et voulons vivre libres sans recevoir d'ordres de personne. Nous attachons de l'importance à l'amitié des grandes puissances, mais (...) à l'avenir, nous ne coopérerons avec eux que sur un pied d'égalité. C'est pourquoi nous élevons notre voix contre l'hégémonie et le colonialisme dont beaucoup d'entre nous ont souffert pendant longtemps. Et c'est pourquoi nous devons veiller à ce qu'aucune autre forme de domination ne nous menace. Nous voulons être amis avec l'Ouest, avec l'Est, avec tout le monde. Le seul chemin qui mène droit au cœur et à l'âme de l'Asie est celui de la tolérance, de l'amitié et de la coopération. (...)

Je pense qu'il n'y a rien de plus terrible que l'immense tragédie qu'a vécue l'Afrique depuis quelques siècles, (...) depuis l'époque où des millions d'Africains ont été expédiés comme esclaves en Amérique ou ailleurs (...). Nous devons tous accepter la responsabilité de ce drame, oui tous, même si nous ne sommes pas directement compromis. (...) Malheureusement même aujourd'hui, le drame de l'Afrique est plus grand que celui d'aucun autre continent tant au point de vue racial que politique. Il appartient à l'Asie d'aider l'Afrique au mieux de ses possibilités, car nous sommes des continents frères.

Discours de Nehru, 24 avril 1955.

Document 2 : Dessin de Plantu



Source : dessin de Plantu paru dans l'album « *pauvres chéris* », Editions du Centurion, 1978.

Document 3 : Allocution de Julius Nyerere

Extraits de l'«Allocution présentée par le Président de la République-Unie de Tanzanie, Son Excellence Mwalimu Julius Nyerere, devant la quatrième réunion ministérielle du Groupe des 77¹, 12 février 1979 ».

« Le système actuel a été institué par les Etats industrialisés pour servir leurs intérêts. C'est là un fait historique, et non un jugement moral ! Il en résulte que le groupe des nations industrialisées – qui agissent bien en tant que groupe quand elles traitent avec les autres pays – tient les leviers des finances et des échanges internationaux et dispose aussi des richesses accumulées par des siècles de colonisation (...), grâce aussi à une avance initiale dans les techniques de production de masse. Là encore, il s'agit de faits, non de jugement moraux. Si la morale a un rôle à jouer dans cette affaire, et tel est bien mon avis, ce rôle concerne l'avenir. Car nous, le Tiers-Monde, nous exigeons maintenant que l'on change les systèmes qui enrichissent les riches et appauvrissent les pauvres, cela pour rester à l'heure des changements intervenus dans le monde : la fin du colonialisme, les progrès de la technologie et l'aspiration nouvelle de l'humanité à l'égalité et à la dignité humaine. (...)

Les pays membres de l'OPEP se sont unis pour fixer le prix du pétrole en 1973. Cet acte historique, qui a secoué le monde, a sensiblement amélioré le pouvoir de négociation des pays exportateurs de pétrole et a encouragé les autres de matières premières. Cependant (...), si puissant soit-il, un syndicat qui défend les intérêts d'une fraction seulement des travailleurs d'une entreprise ne peut, à lui seul, changer quant au fond les relations entre employeurs et employés. »

Source : Elikia M'Bokolo, *Afrique noire. Histoire et civilisations du XIXe siècle à nos jours*, Paris, Hatier/AUF, 2004, p. 503.

¹ Groupe constitué à l'ONU par des Etats du Tiers-Monde pour défendre leurs intérêts économiques.

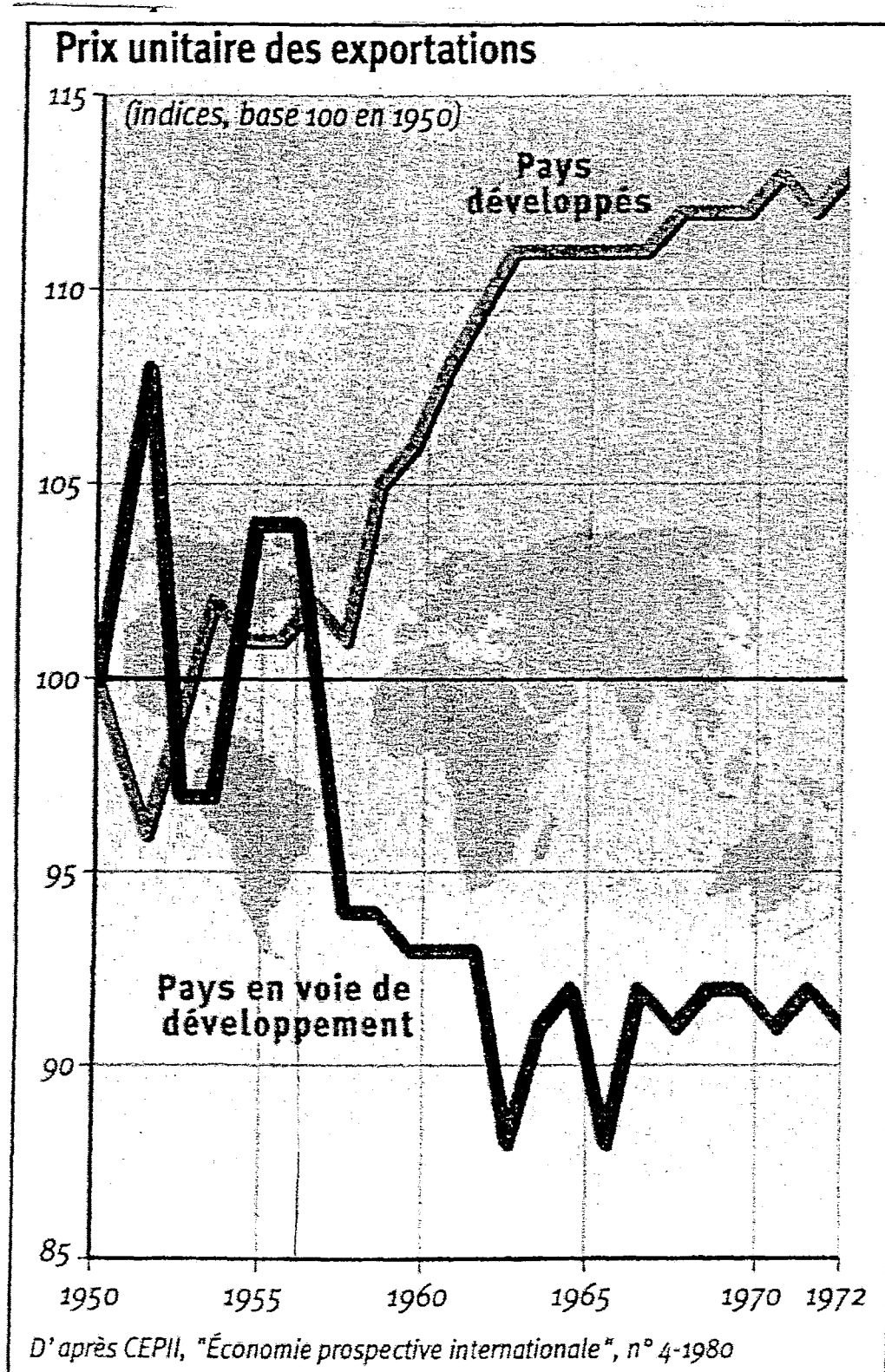
Document 4 : Le Tiers-Monde dans les années 1970

	Part de la main-d'œuvre agricole dans la population active en 1970 en %	Part de la production manufacturière dans le P.I.B. en 1970
Dans l'ensemble des pays en développement	65	18
Dans les pays les moins avancés seulement	84	9

	Accroissement annuel du P.I.B. en %		Accroissement annuel du P.I.B. par habitant en %	
	1960-1970	1971-1972	1960-1970	1971-1972
Ensemble des pays en voie de développement	5,1	5,9	2,4	3
Pays les moins avancés	3,5	2,7	1,1	0,2

Source : d'après Edmond JOUVE, *Relations internationales du Tiers-Monde*, Paris, Berger-Levrault, 1976, p. 24

Document 5 : L'évolution des prix des exportations



DEUXIÈME PARTIE

GÉOGRAPHIE

CROQUIS DE GÉOGRAPHIE

Le candidat choisit **UN** des deux sujets proposés.

Il réalise un croquis à partir du fond de carte fourni, accompagné d'une légende organisée.

SUJET I

L'Europe rhénane, cœur de la puissance économique européenne

SUJET II

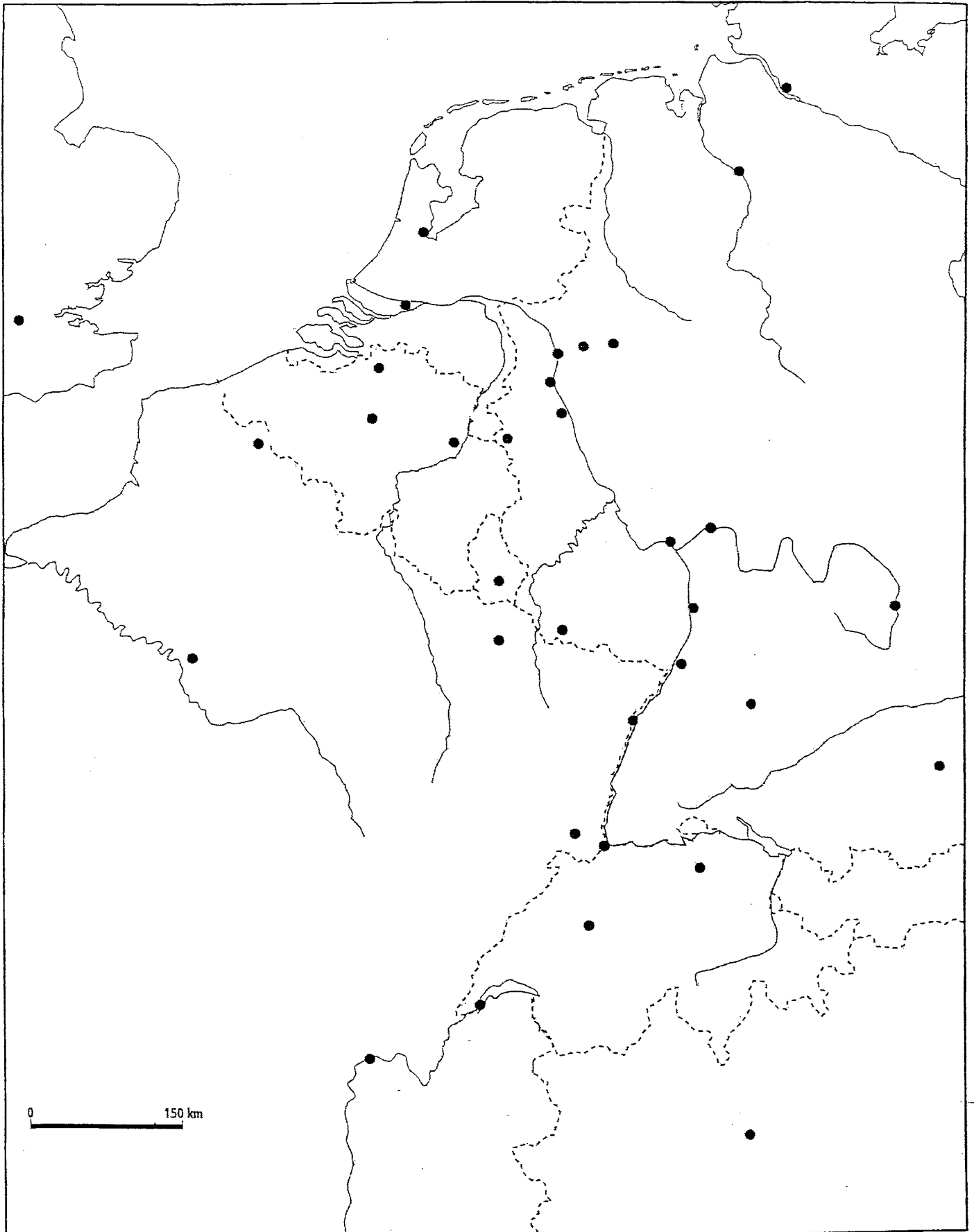
**Le Brésil : inégalités de développement et contrastes spatiaux
d'un Etat du Sud**

Feuille annexe à rendre avec la copie

LEGENDE :

SUJET I : CROQUIS DE GEOGRAPHIE

TITRE :



Repère :