

BACCALAURÉAT GÉNÉRAL

SESSION 2009

ENSEIGNEMENT SCIENTIFIQUE

SÉRIE L

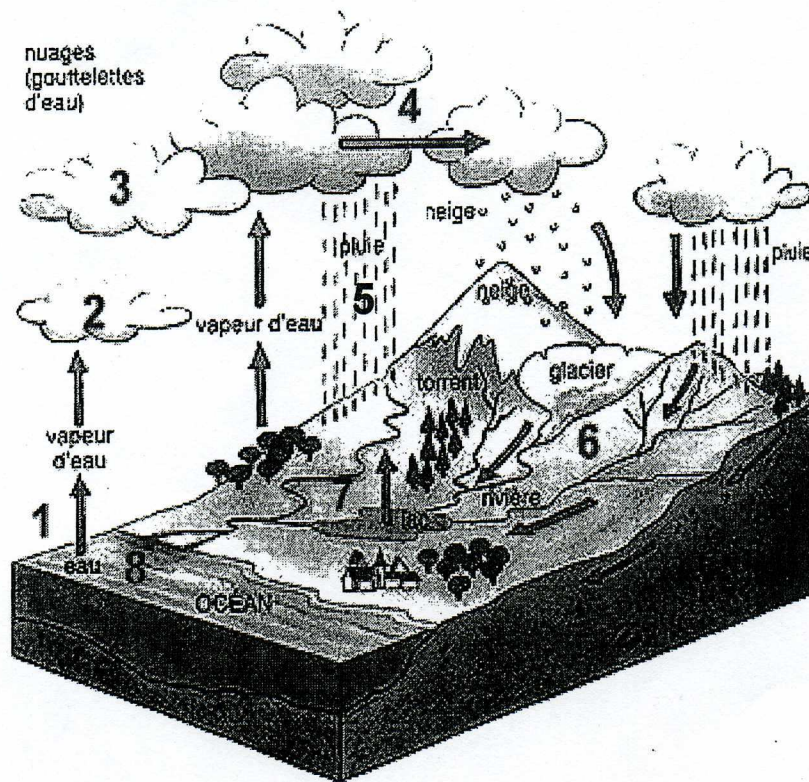
Durée de l'épreuve : 1 h 30 – Coefficient : 2

Ce sujet comporte 9 pages numérotées de 1 à 9.

***Conformément aux termes de la circulaire 99-186
du 16 novembre 1999, l'usage de la calculatrice n'est pas autorisé.***

Le candidat traite la partie I et la partie II.

Document 1 : Le cycle de l'eau.



Source : Site internet de l'université de Mons – Hainaut.

Document 2 : L'eau ? Un produit naturel méconnu.

Schématiquement, l'eau évolue entre trois secteurs : les océans (l'hydrosphère), l'atmosphère et les sols (lithosphère). La Terre recevant l'énergie solaire, l'hydrosphère s'évapore, conduisant à la présence d'eau dans l'atmosphère. Cette eau, suite à un refroidissement de l'air, se condense en gouttes ou cristaux de glace et se retrouve précipitée sous forme de pluie, neige ou grêle sur la lithosphère à la surface de laquelle approximativement $\frac{1}{4}$ pénètre, $\frac{1}{4}$ ruisselle. La moitié restante s'évapore à son tour. [...]

Les eaux superficielles sont constituées par les eaux des ruisseaux, rivières, fleuves, étangs, lacs, barrages-réservoirs et glaciers. [...]

Les fleuves et les rivières, outre les eaux de pluie, sont alimentés par les nappes souterraines, surtout mises à contribution en été quand les pluies sont beaucoup plus faibles. On estime à environ 3 milliards de m^3 / an la quantité d'eau souterraine qui participe, dans le bassin de la Seine, à l'alimentation des fleuves et des rivières. Les débits des fleuves et des rivières vont donc varier entre deux extrêmes : étiages et crues. En période de sécheresse annuelle, leur débit est minimum et quasiment exclusivement fourni par les eaux souterraines (période d'étiage).

Source : d'après site internet cultureSciences-Chimie. Article écrit par C. Cun (centre de recherche et de contrôle des eaux de Paris).

Question 1 (Physique Chimie) (0,5 point) *Utiliser des connaissances.*
Comment évolue, dans le temps, la quantité totale d'eau sur Terre ?

Question 2 (Physique Chimie) (2 points) *Utiliser des connaissances.*

- Nommer l'étape 1 du document 1.
- Nommer l'étape 5.
- Laquelle de ces étapes est un changement d'état physique ? Justifier.

Question 3 (Physique Chimie) (1,5 point) *Utiliser des connaissances et saisir des informations.*

Indiquer les trois réservoirs d'eau de notre planète.

Document 3 : Résultats d'analyse d'une eau.

PARAMÈTRES	Valeur moyenne eau canal de Marseille.
Calcium mg / L	71
Dureté (° TH) degrés français	21,8
Magnésium mg / L	10,5
Nitrates mg / L	2
pH	8
Turbidité NTU	4,9

Source : Site internet de la société des eaux de Marseille.

Question 4 (Physique Chimie) (1 point) *Utiliser des connaissances et saisir des informations.*

- Par la mesure de quel paramètre peut-on reconnaître le caractère acide, basique ou neutre d'une solution ?
- L'eau de Marseille est-elle acide, basique ou neutre ? Justifier.

Document 4 : normes de potabilité pour les eaux du robinet et les eaux de sources

Paramètre	Valeur limite
Résidu sec à 180 ° C	1500 mg / L
Dureté (en °TH)	supérieure à 15 °
pH	comprise entre 6 et 9,5
Chlorures	200 mg / L
Sulfates	250 mg / L
Magnésium	50 mg / L
Hydrogénocarbonates	non limité
Nitrates	50 mg / L

Question 5 (Physique Chimie) (1,5 point) Utiliser des connaissances.

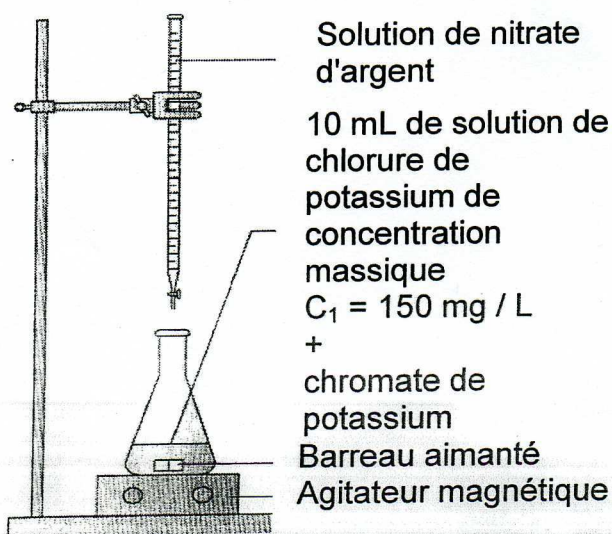
- Donner le nom et la formule chimique des deux ions responsables de la dureté de l'eau.
- Citer un inconvénient d'une eau trop dure.

Document 5 : Dosage des ions chlorure.

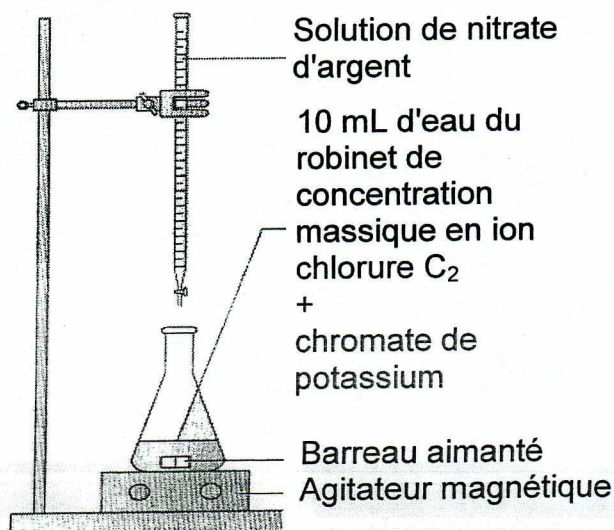
- En versant progressivement des ions argent (Ag^+) dans une solution contenant des ions chlorure (Cl^-), il se forme un précipité blanc, le chlorure d'argent.
- Les ions argent produisent avec le chromate de potassium un précipité rouge.

On souhaite doser les ions chlorure dissous dans une eau de robinet. Pour cela :

- On verse tout d'abord, à l'aide d'une burette graduée, une solution de nitrate d'argent dans 10 mL de solution de chlorure de potassium de concentration massique connue (C_1) contenant quelques gouttes de chromate de potassium. On cesse de verser à l'apparition d'un précipité rouge. On note alors V_1 le volume de solution de nitrate d'argent.
- On effectue ensuite la même manipulation en remplaçant la solution de chlorure de potassium par 10 mL d'eau du robinet. On note V_2 , le volume de solution de nitrate d'argent versé à l'apparition du précipité rouge.



$V_1 = 10 \text{ mL}$



$V_2 = 20 \text{ mL}$

Question 6 (Physique Chimie) (0,5 point) Saisir des informations.
Nommer l'instrument de verrerie avec lequel on verse la solution de nitrate d'argent.

Question 7 (Physique Chimie) (2 points) Utiliser des connaissances et les mettre en relation.

Dans cet exemple de dosage, le volume de solution de nitrate d'argent versé est proportionnel à la concentration en ion chlorure.
En déduire la valeur, C_2 , de la concentration en ion chlorure de l'eau du robinet.

Question 8 (Physique Chimie) (1 point) Saisir des informations et les mettre en relation.

Déduire de la question précédente si cette eau du robinet satisfait aux critères de potabilité. Justifier.

Document 6 : une eau minérale présente la composition suivante en ions minéraux

Ions	Valeur en mg/ L
Calcium	549
Magnésium	119
Sodium	142
Sulfates	1530
Hydrogénocarbonates	383,7
Nitrates	4,3

Question 9 (SVT) (1 point) Saisir des informations et les mettre en relation.

Indiquer pourquoi cette eau minérale ne satisfait pas aux normes de potabilité à l'aide des documents précédents.

Question 10 (SVT) (0,5 point) Utiliser ses connaissances.

Expliquer en quoi l'eau est un aliment essentiel.

Question 11 (SVT)(0,5 point) Utiliser ses connaissances.

Expliquer l'origine possible des nitrates dans les eaux de boisson.

Place de l'Homme dans l'évolution

Document 1 : La confrontation de deux classifications.

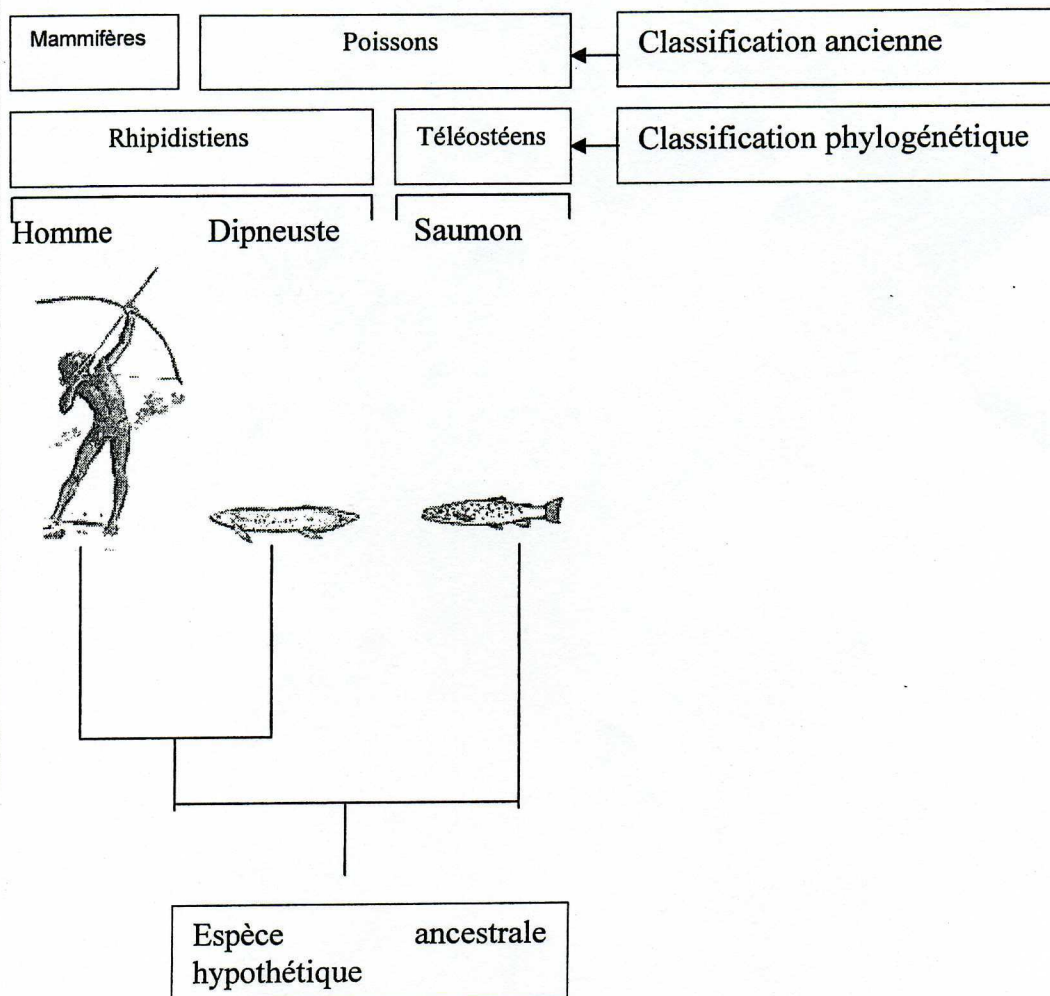
A : Le Saumon, le Dipneuste et l'Homme sont trois vertébrés.

Dans une ancienne classification, le Saumon et le Dipneuste étaient rassemblés dans le groupe des « Poissons ». Ils ont en commun la présence d'écaillés, de nageoires et la forme générale du corps.

Actuellement l'Homme et le Dipneuste sont placés dans le groupe des Rhipidistiens (avec de nombreuses autres espèces), alors que le Saumon appartient au groupe des Téléostéens.

Source : D'après Editions Belin

B : Arbre phylogénétique de l'Homme, du Dipneuste et du Saumon.



Source : Logiciel Phylogène (INRP)

Document 2 : Tableau des états primitifs et dérivés de différents caractères

Source : Logiciel Phylogène (INRP)

	<i>Caractères</i>	<i>Etat ancestral</i>	<i>Etat dérivé</i>
1	<i>Squelette interne des appendices antérieurs (bras)</i>	<i>Pièces basales multiples</i>	<i>Pièce basale unique</i>
2	<i>Poumon</i>	<i>Absence</i>	<i>Présence</i>
3	<i>Coeur</i>	<i>Une seule oreillette</i>	<i>Deux oreillettes</i>
4	<i>Réserves de la cellule - oeuf</i>	<i>Abondantes</i>	<i>Très faibles</i>

Question 1 (SVT)**(2 points)***Utiliser des connaissances et saisir des informations.*

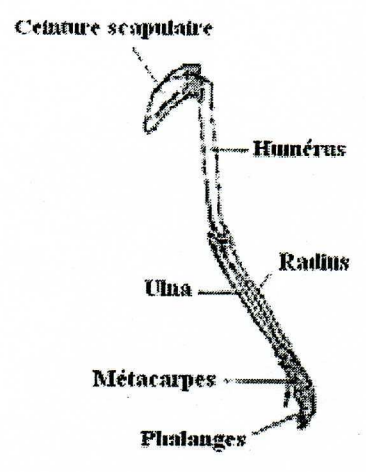
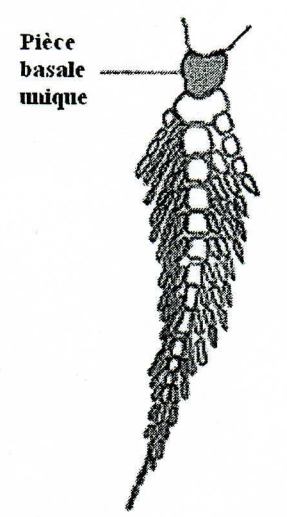
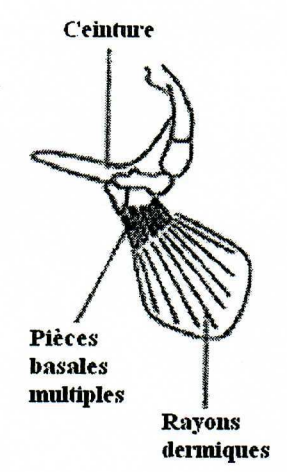
- Donner la définition de l'état ancestral et de l'état dérivé pour un caractère.
- Illustrer cette définition par un exemple extrait du document 2.

Question 2 (SVT)**(2 points)***Saisir des Informations.*

- Expliquer pourquoi, dans l'ancienne classification, le Saumon et le Dipneuste étaient regroupés.
- Nommer les différences observées entre l'arbre phylogénétique et la classification ancienne.

Document 3 : Etat de quatre caractères pour l'Homme, le Dipneuste et le Saumon

Source : Logiciel Phylogène (INRP)

	Homme	Dipneuste	Saumon
Squelette : Appendices antérieurs (bras)	Une pièce basale unique au niveau du bras (os humérus) 	Une pièce basale unique 	Pièces basales multiples 
Respiration	Pulmonaire	Pulmonaire	Branchiale
Coeur	Deux oreillettes	Deux oreillettes	Une oreillette
Cellule- oeuf	Réserves inexistantes	Réserves abondantes	Réserves abondantes

Question 3 (SVT)**(2 points)***Saisir des Informations et les mettre en relation.*

Préciser l'argument qui a permis de rassembler l'Homme et le Dipneuste dans le groupe des Rhipidistiens.

Question 4 (SVT)**(2 points)***Saisir des Informations et les mettre en relation.*

Enumérer les états des caractères que devait posséder l'ancêtre hypothétique à l'Homme et au Dipneuste.

Document 1 : Un implant contraceptif.

On étudie une modalité de contraception : la mise en place d'un implant sous-cutané. On insère cet implant sous la peau à 6 à 8 cm au-dessus du pli du coude. Cet implant se présente sous la forme d'un petit bâtonnet de la taille d'une allumette et contient un progestatif de synthèse nommé Norgestrel. Cet implant est posé pour 3 ans et son action contraceptive se réalise au delà d'une valeur seuil de 25 microgrammes par jour. Il libère en continu un progestatif identique à celui contenu dans certaines pilules [...]. Il agit en bloquant l'ovulation, en rendant l'endomètre utérin impropre à la nidation et en épaississant la glaire cervicale, ce qui gêne le passage des spermatozoïdes. [...]. L'implant progestatif présente un certain nombre d'avantages : pas d'oubli possible, très efficace (0 grossesse sur 73 000 cycles d'études cliniques), rapidement réversible lorsqu'il est retiré (retour à un fonctionnement normal de l'appareil génital en moins de 3 semaines).

Source : D'après le site www.futura-sciences.com

Question 1 (SVT) (2,5 points) Restituer et utiliser des connaissances.

- Définir le terme d'hormone.
- Préciser la période de sécrétion de la progestérone au cours du cycle ovarien.
- Justifier le fait que la progestérone soit une hormone.
- Expliquer son rôle au cours du cycle utérin et son action sur la glaire cervicale.

Document 2 : L'action d'un implant contraceptif.

Temps après la pose chez une patiente	Quantité de norgestrel délivrée par l'implant (unité : microgrammes par jour)	Ovulations constatées (en pourcentage)
5 semaines	65	0
1 an	40	0
2 ans	35	0
3 ans	27	4

Source : D'après manuel de terminale S- Bordas

Question 2 (SVT) (3 points) Saisir des informations.

- Préciser comment évolue la quantité de norgestrel délivrée par l'implant au cours du temps. (1 point)
- Expliquer pourquoi cette patiente devrait renouveler la pose de l'implant. (1 point)
- Préciser l'intérêt de l'implant contraceptif par rapport à une pilule contraceptive. (1 point)

Question 3 (SVT) (2,5 points) Mettre en relation les informations et ses connaissances pour réaliser une synthèse.

Expliquer le rôle du progestatif dans un moyen contraceptif.