

BACCALAURÉAT GÉNÉRAL

Session 2011

HISTOIRE – GÉOGRAPHIE

Série S

Durée de l'épreuve : 4 heures

Coefficient : 3

L'usage de la calculatrice n'est pas autorisé.

Le sujet comporte 12 pages numérotées de 1/12 à 12/12

Le candidat doit traiter :

UN des trois sujets de géographie de la première partie

ET

UN des deux sujets d'histoire de la deuxième partie

PREMIÈRE PARTIE

GÉOGRAPHIE

Le candidat choisit **UN** des trois sujets proposés

SUJET I

COMPOSITION

La mondialisation : flux, acteurs et différenciations spatiales

SUJET II

COMPOSITION

L'Asie orientale, une aire de puissance en expansion

SUJET III

ETUDE D'UN ENSEMBLE DOCUMENTAIRE

La façade Pacifique des Etats-Unis, un espace moteur de la puissance étatsunienne ?**Documents :**

document 1 : Le port de Los Angeles

document 2 : Origine ethnique des résidents de la « Bay Area »

document 3 : Population urbaine et métropolisation aux Etats-Unis

document 4 : Le réseau des autoroutes (*Highways*) dans l'Ouest américain

document 5 : La Silicon Valley

Première partie

Analysez l'ensemble documentaire en répondant aux questions suivantes :

1. Délimitez et définissez la façade Pacifique des Etats-Unis.
2. A l'aide des documents 1, 2 et 4, identifiez les flux qui mettent en relation les Etats-Unis avec les autres pays de la façade Pacifique et avec le monde.
3. A l'aide des documents 1, 3 et 4, caractérisez le rôle de Los Angeles dans la façade Pacifique.
4. Dans le document 5, relevez trois éléments qui font la puissance de la Silicon Valley.
5. Identifiez un contraste que présente la façade Pacifique des Etats-Unis et une limite de sa puissance.

Deuxième partie

A l'aide des réponses aux questions, des informations contenues dans les documents et de ses connaissances personnelles, rédigez une réponse organisée au sujet : **la façade Pacifique des Etats-Unis, un espace moteur de la puissance étatsunienne ?**

Document 1 : Le port de Los Angeles



Source : <http://www.discoverlosangeles.com>, photographie prise en 2007

Document 2 : Origine ethnique des résidents de la « Bay Area »¹

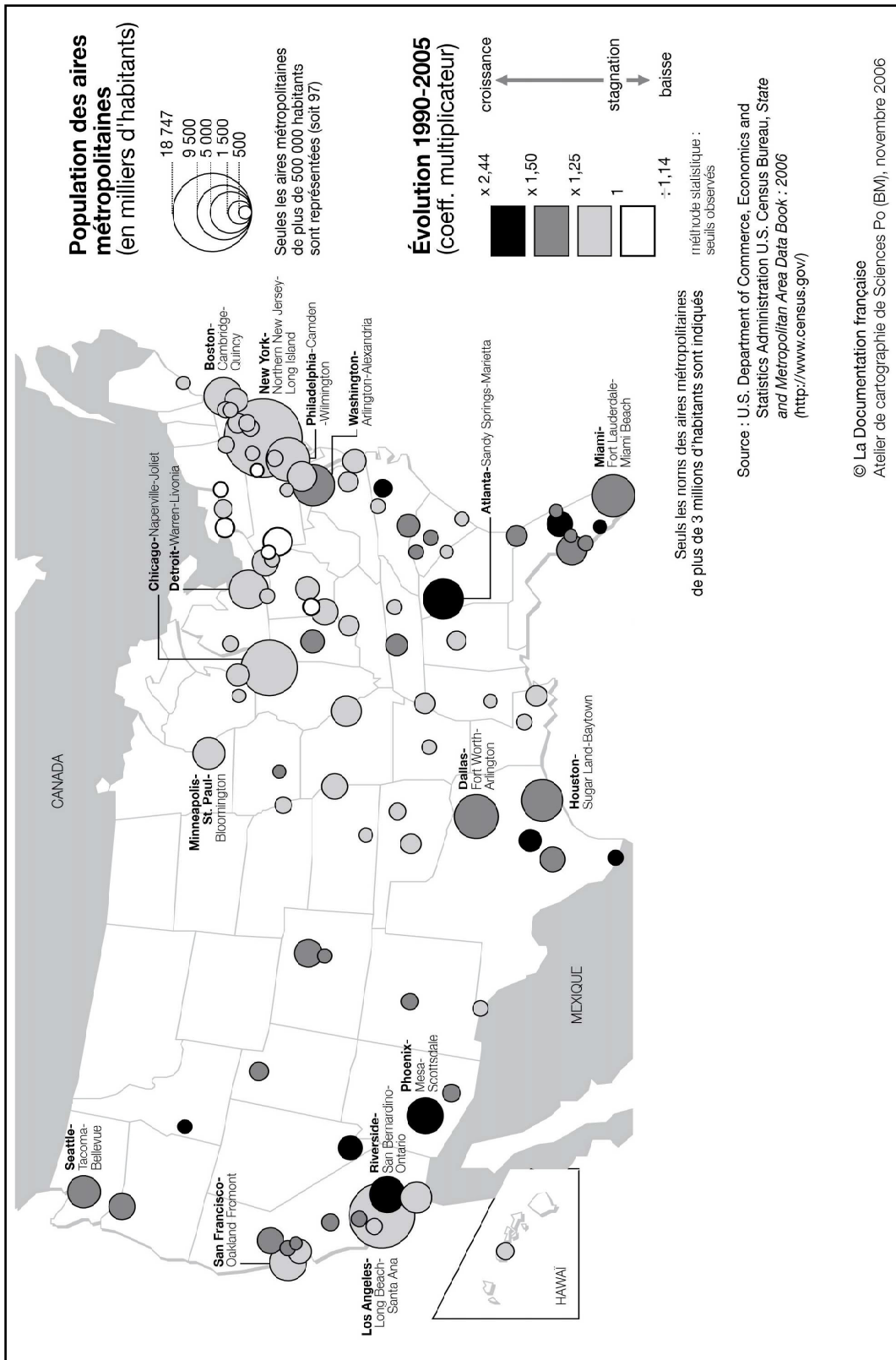
Origine	Effectif	Part de la population totale de « Bay Area » En % en 2002*	Part de la population totale de « Bay Area » En % en 2020 (projection)
Blancs	3 904 000	58.1	42
Latinos/Hispaniques	1 368 000	20.3	24
Asiatiques	1 397 250	20.8	26
Noirs	461 170	6.9	8
Amérindiens	38 460	0.6	Non connu
Iles Pacifique	34 310	0.5	Non connu
Autres	627 970	9.3	Non connu

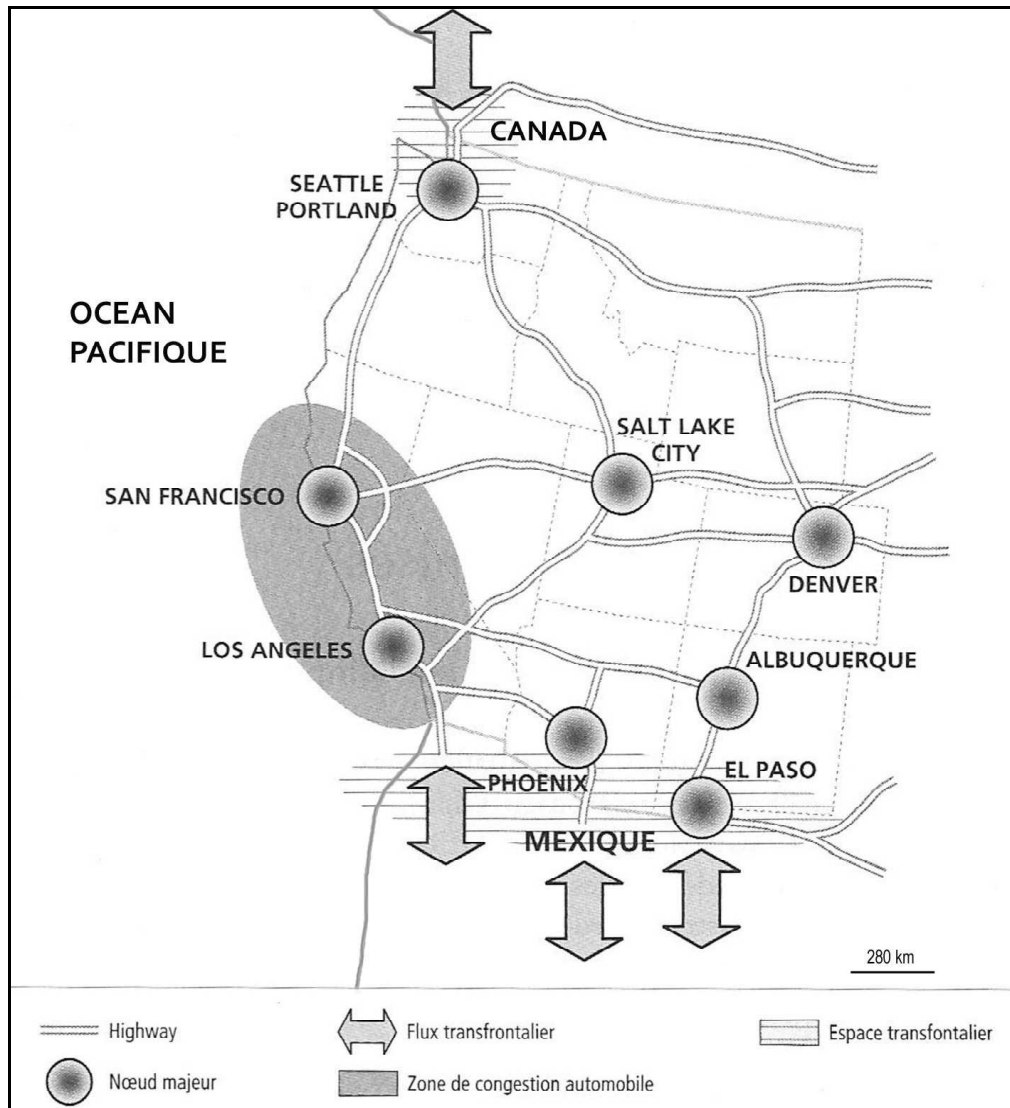
*3.9% appartiennent au moins à deux ethnies

Source : *Mission économique de San Francisco*, août 2008

¹« Bay Area » : région des trois baies de San Francisco, San Pablo et Suisun

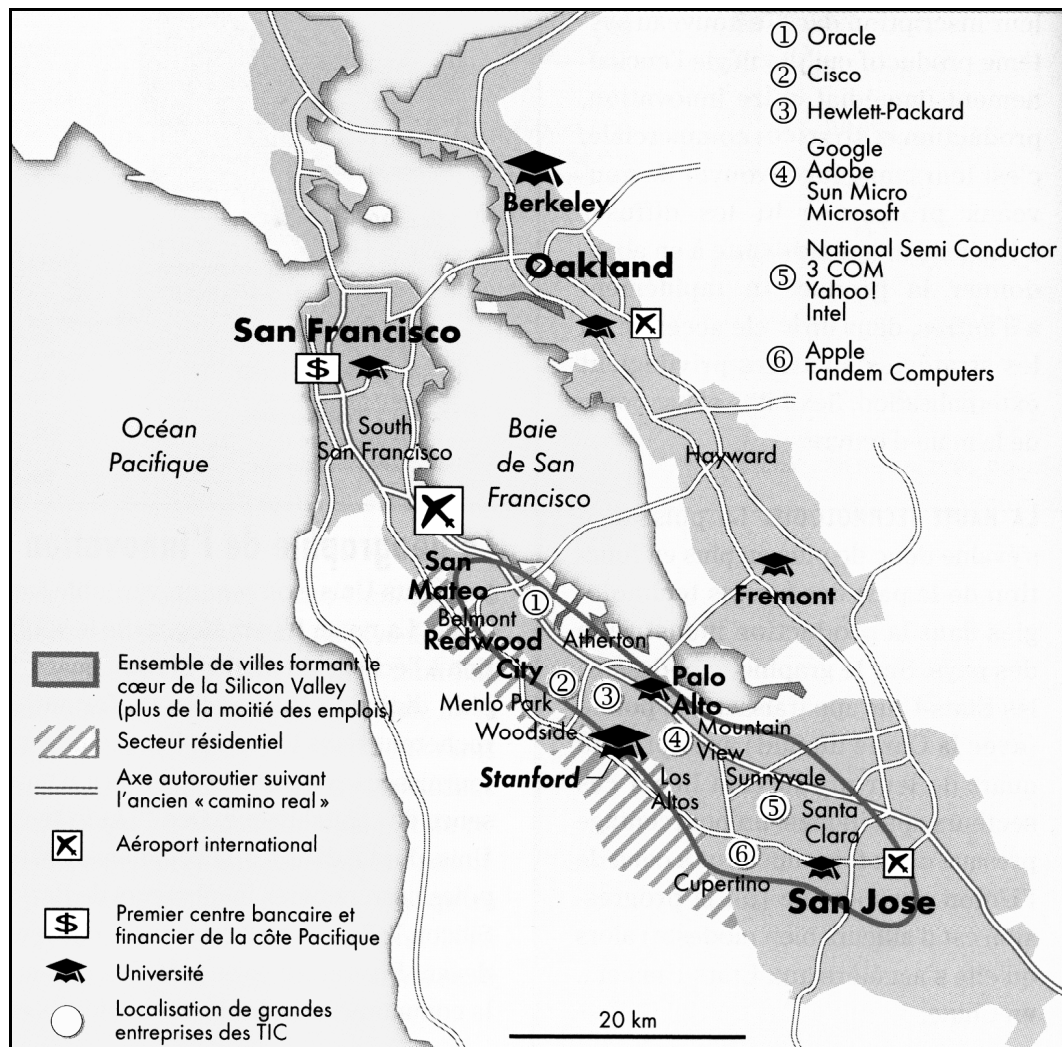
Document 3 : Population urbaine et métropolisation aux Etats-Unis



Document 4 : Le réseau des autoroutes (*Highways*) dans l'Ouest américain

Source : M. Goussot, *Espaces et territoires aux Etats-Unis*, Belin Sup Géographie, 2004, p 202

Document 5 : La Silicon Valley



Source : d'après G.Dorel, *Atlas de l'empire américain*, Autrement, 2006, p 24

DEUXIÈME PARTIE

HISTOIRE

EXPLICATION D'UN DOCUMENT D'HISTOIRE

Le candidat choisit **UN** des deux sujets proposés

SUJET I

Discours de John F. Kennedy à Berlin-Ouest le 26 juin 1963

« Beaucoup d'individus dans le monde ne comprennent pas ou disent ne pas comprendre quelle est la différence entre le monde libre et le monde communiste. Qu'ils viennent à Berlin. D'autres prétendent que le communisme est la voie de l'avenir. Qu'ils viennent à Berlin. Certains, enfin, en Europe et ailleurs, affirment, nous pouvons travailler avec les communistes. Qu'ils viennent à Berlin.

La liberté a beaucoup de difficultés et la démocratie n'est pas parfaite. Cependant, nous n'avons jamais eu besoin, nous, d'ériger un mur pour empêcher notre peuple de s'enfuir. [...] Je ne connais aucune ville, aucune ville, qui ait connu dix-huit ans de régime d'occupation et qui vive encore avec autant de vitalité, de force, d'espoir et de détermination que la ville de Berlin-Ouest. Alors même que le mur est la démonstration la plus vivante et la plus éclatante des échecs du système communiste, visible aux yeux du monde entier. Nous n'éprouvons aucune satisfaction en voyant ce mur, car, comme l'a dit votre maire, il constitue, à nos yeux, une offense non seulement envers l'histoire mais encore une offense envers l'humanité. [...]

Ce qui est vrai de cette ville est vrai de l'Allemagne - une paix réelle et durable en Europe ne peut pas être assurée tant qu'un Allemand sur quatre sera privé du droit élémentaire des hommes libres qui est d'avoir son libre choix. Après dix-huit ans de paix et de confiance, la présente génération d'Allemands a mérité le droit d'être libre, ainsi que le droit à la réunification de ses familles et de sa nation, pacifiquement et durablement. [...]

La liberté est indivisible et tant qu'un seul homme est asservi les autres ne sont pas libres. Mais lorsque tous seront libres, nous attendrons, alors, avec impatience le jour où cette ville sera réunie en une seule et ce pays et le grand continent européen vivront dans un monde de paix et d'espoirs. Quand ce jour viendra enfin, car il viendra ! La population de Berlin-Ouest pourra avoir la satisfaction d'avoir tenu bon sur la ligne de front pendant presque deux décennies.

Tous les hommes libres, où qu'ils vivent, sont des citoyens de Berlin, et c'est pour cette raison, en ma qualité d'homme libre, que je suis fier de prononcer ces mots : "Ich bin ein Berliner"¹.»

John F. Kennedy, discours prononcé sur la place de l'Hôtel de Ville à Berlin-Ouest, 26 juin 1963.

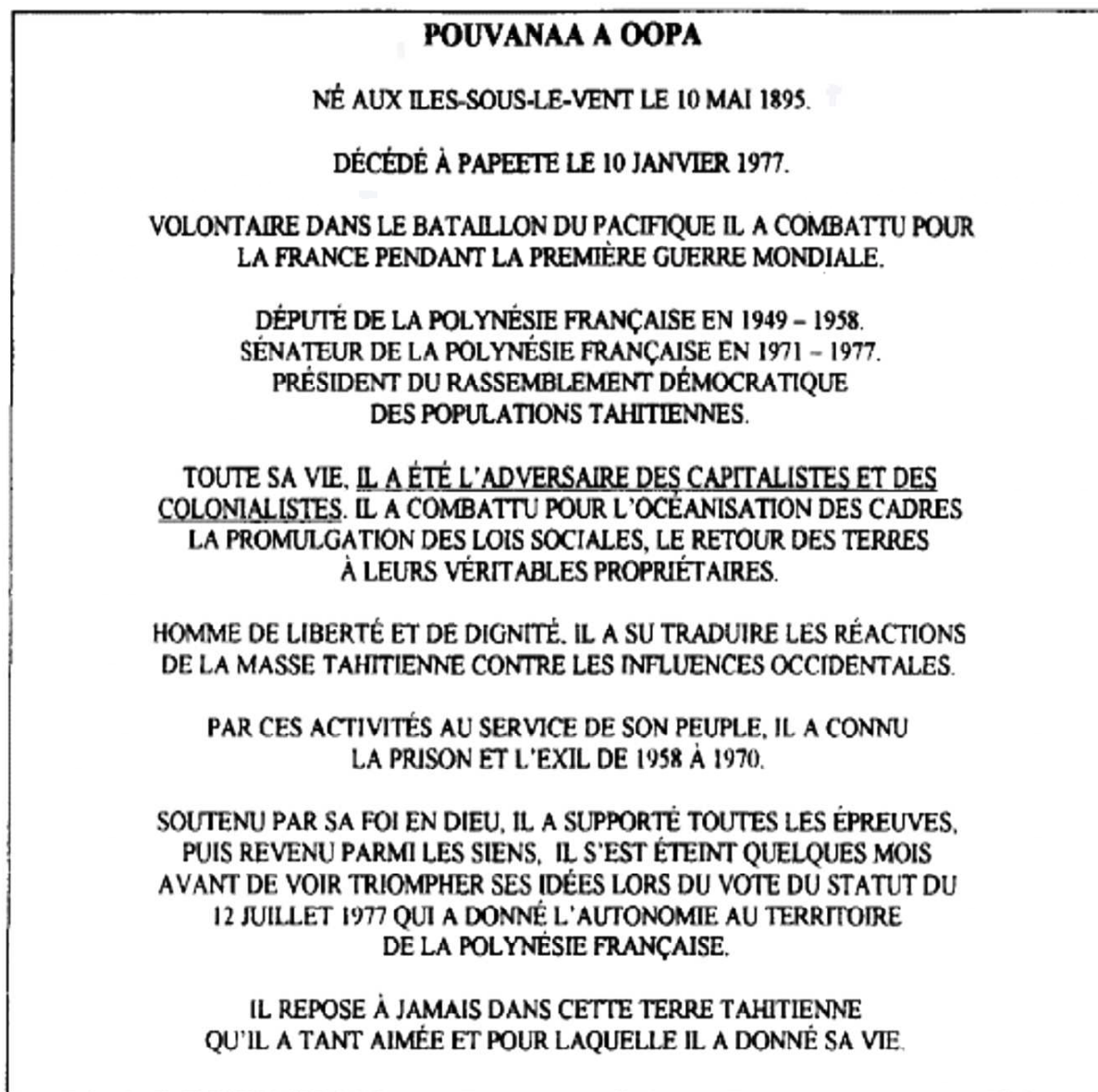
¹ Je suis un Berlinois.

QUESTIONS

1. Présentez l'auteur, les circonstances et la nature du document.
2. Expliquez la phrase soulignée.
3. Identifiez deux formes de liberté présentées par John F. Kennedy dans son discours.
4. Qu'est-ce qui justifie l'expression de John F. Kennedy « la démocratie n'est pas parfaite », vous pouvez vous appuyer sur des exemples étasuniens.
5. La vision de John F. Kennedy sur Berlin, l'Europe et le monde est-elle devenue une réalité ?

SUJET II

Une figure du nationalisme polynésien : Pouvanaa A Oopa



Retranscription du texte de la stèle placée sous le buste de Pouvanaa A Oopa. Cette stèle, située sur la place Tarahoi à Papeete, a été inaugurée le 10 mai 1982.

QUESTIONS

1. Relevez sur cette stèle, trois principes ou idées qui ont guidé l'action politique de Pouvanaa A Oopa.
2. Identifiez et caractérisez les moyens d'action utilisés par Pouvanaa A Oopa pour se mettre « au service de son peuple ».
3. Après avoir présenté le statut de la Polynésie française de 1977, justifiez en quoi ce statut permet « de voir triompher ses idées ».
4. Justifiez l'érection d'une stèle à la mémoire de Pouvanaa A Oopa.