

BACCALAURÉAT GÉNÉRAL

SESSION 2017

SCIENCES DE LA VIE ET DE LA TERRE

Série S

Durée de l'épreuve : 3h30

Coefficient : 8

ENSEIGNEMENT DE SPÉCIALITÉ

L'usage de la calculatrice n'est pas autorisé.

Dès que le sujet est remis, assurez-vous qu'il est complet.

Ce sujet comporte 9 pages numérotées de 1/9 à 9/9.

Partie I (8 points)

Le maintien de l'intégrité de l'organisme : quelques aspects de la réaction immunitaire

En novembre 2016, l'O.M.S. (Organisation Mondiale de la Santé) déclarait : « *Le VIH (Virus de l'Immunodéficience Humaine) reste l'un des principaux problèmes de santé publique dans le monde, particulièrement dans les pays à revenu faible ou intermédiaire.* »

D'après <http://www.who.int>

Le VIH est un virus qui infecte les lymphocytes T CD4, provoquant leur destruction. En absence de traitement, les individus infectés par ce virus meurent des suites de maladies opportunistes.

À partir de l'utilisation des connaissances, expliquer pourquoi la destruction des lymphocytes T CD4 par le VIH entraîne une déficience de l'ensemble du système immunitaire.

Il est attendu un exposé structuré avec une introduction et une conclusion, illustré éventuellement de schéma(s).

Partie II : Exercice 1 (3 points)

Génétique et évolution

Chez la drosophile, les caractères « couleur du corps » et « longueur des ailes » sont respectivement codés par deux gènes.

À partir de l'étude des documents, identifier la bonne réponse parmi les quatre proposées pour chaque affirmation.

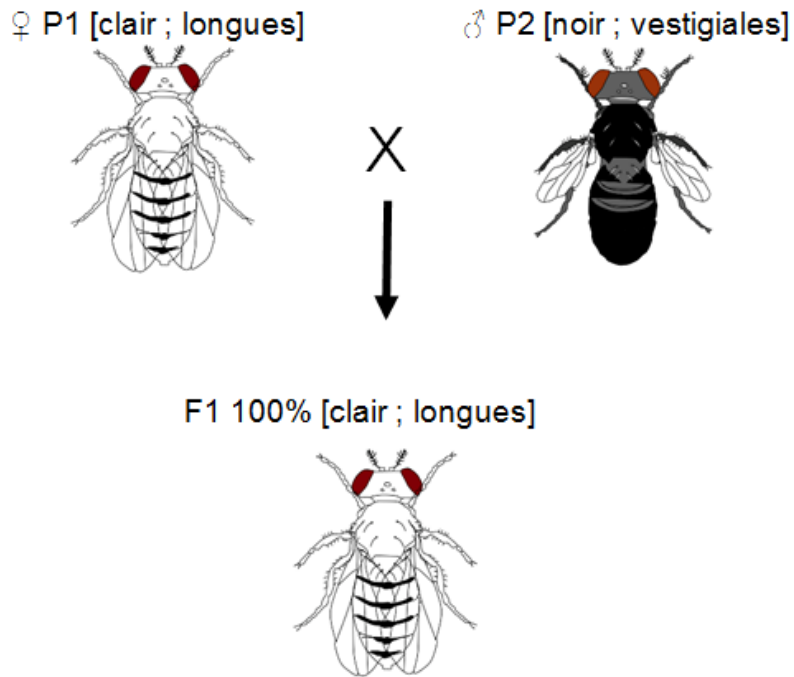
Recopier **sur la copie** le numéro de la question du QCM page 5/9 ainsi que la lettre correspondant à la bonne réponse.

DOCUMENT 1 –Tableau des caractères, gènes, phénotypes et allèles étudiés dans les croisements réalisés.

Gène codant chaque caractère	Gène « couleur du corps »	Gène « longueur des ailes »
Phénotypes possibles pour chaque caractère	[clair] ou [noir]	[longues] ou [vestigiales]
Allèles codant chaque phénotype	<i>b+</i> codant [clair] <i>b-</i> codant [noir]	<i>vg+</i> codant [longues] <i>vg-</i> codant [vestigiales]

DOCUMENT 2 – Schéma d'un premier croisement.

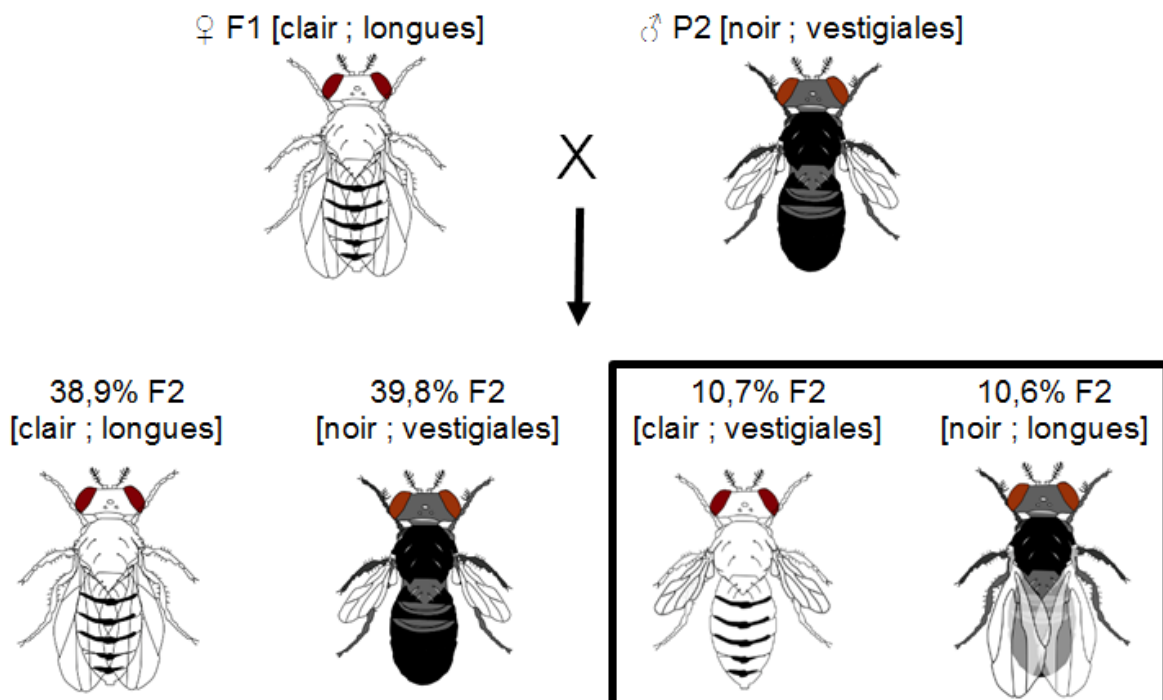
On croise deux lots de drosophiles (P1 et P2) homozygotes pour les deux gènes considérés (c'est-à-dire possédant deux allèles identiques pour chaque gène) et de phénotype différent. On obtient une première génération de drosophiles appelée « F1 ».



D'après <http://pedagogie.ac-toulouse.fr>

DOCUMENT 3 – Schéma d'un second croisement (croisement test).

On croise les drosophiles F1 issues du premier croisement (document 2) par des parents P2. On obtient une seconde génération de drosophiles appelée « F2 ».



D'après <http://pedagogie.ac-toulouse.fr>

QCM (répondre sur la copie)

1- Le premier croisement (DOCUMENT 2) permet de conclure que :

- a) l'allèle $b+$ est dominant par rapport à l'allèle $b-$ et que l'allèle $vg+$ est dominant par rapport à l'allèle $vg-$;
- b) l'allèle $b+$ est récessif par rapport à l'allèle $b-$ et que l'allèle $vg+$ est récessif par rapport à l'allèle $vg-$;
- c) les gènes codant la couleur du corps et la longueur des ailes sont portés par le même chromosome ;
- d) les gènes codant la couleur du corps et la longueur des ailes sont portés par des chromosomes différents.

2- Les drosophiles obtenues en F1 sont :

- a) homozygotes pour les deux gènes considérés ;
- b) hétérozygotes pour les deux gènes considérés ;
- c) homozygotes pour le gène codant la couleur du corps et hétérozygotes pour le gène codant la longueur des ailes ;
- d) homozygotes pour le gène codant la longueur des ailes et hétérozygotes pour le gène codant la couleur du corps.

3- A l'issue du second croisement (DOCUMENT 3), les proportions des phénotypes encadrés s'expliquent par :

- a) un brassage génétique interchromosomique lors des méioses parentales ;
- b) un brassage génétique intrachromosomique lors des méioses parentales ;
- c) l'absence totale de crossing-over lors des méioses parentales ;
- d) des duplications géniques lors des méioses parentales.

Enseignement de spécialité

Partie II : Exercice 2 (5 points)

Atmosphère, hydrosphère, climats : du passé à l'avenir

Depuis une trentaine d'années, la communauté scientifique et les gouvernements s'intéressent aux clathrates de méthane découverts par sir Humphrey Davy en 1810. Les clathrates ou hydrates de méthane des fonds océaniques contiennent une quantité très importante de carbone en comparaison des gisements de gaz naturel, de pétrole et de charbon connus mondialement.

Les clathrates de méthane inquiètent la communauté scientifique dans le cadre de l'évolution actuelle du climat.

À partir de l'étude des documents et de l'utilisation des connaissances, proposer des arguments justifiant cette inquiétude.

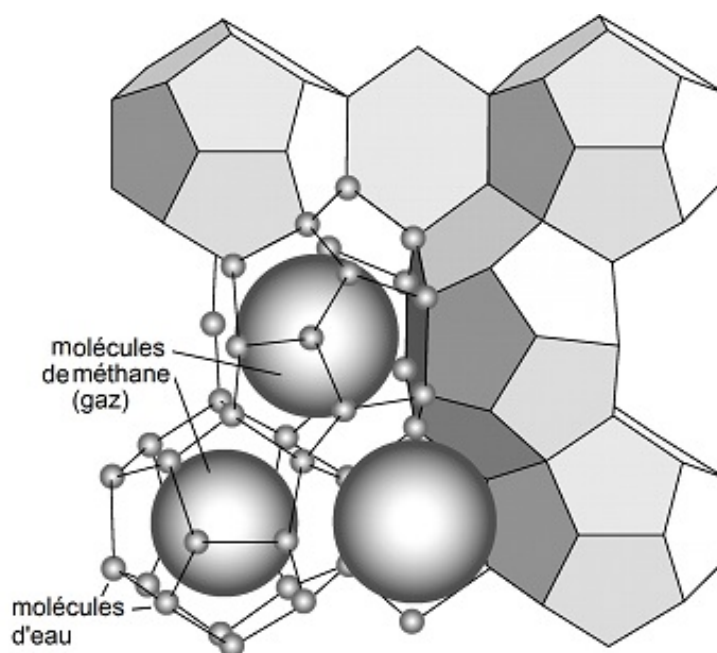
DOCUMENT 1 – Les clathrates de méthane.

« Les clathrates de méthane sont des substances qui ressemblent à de la glace. Ce sont des solides cristallins. Ils sont constitués d'une molécule gazeuse de méthane entourée par des molécules d'eau. »

Si 1 m³ d'hydrate de méthane est déstabilisé, il libère 164 m³ de méthane et 0,8 m³ d'eau liquide.

Le méthane libéré rejoint ensuite l'atmosphère.

D'après http://accs.ens-lyon.fr/accs/terre/CCCIC/ressources/litho_point4



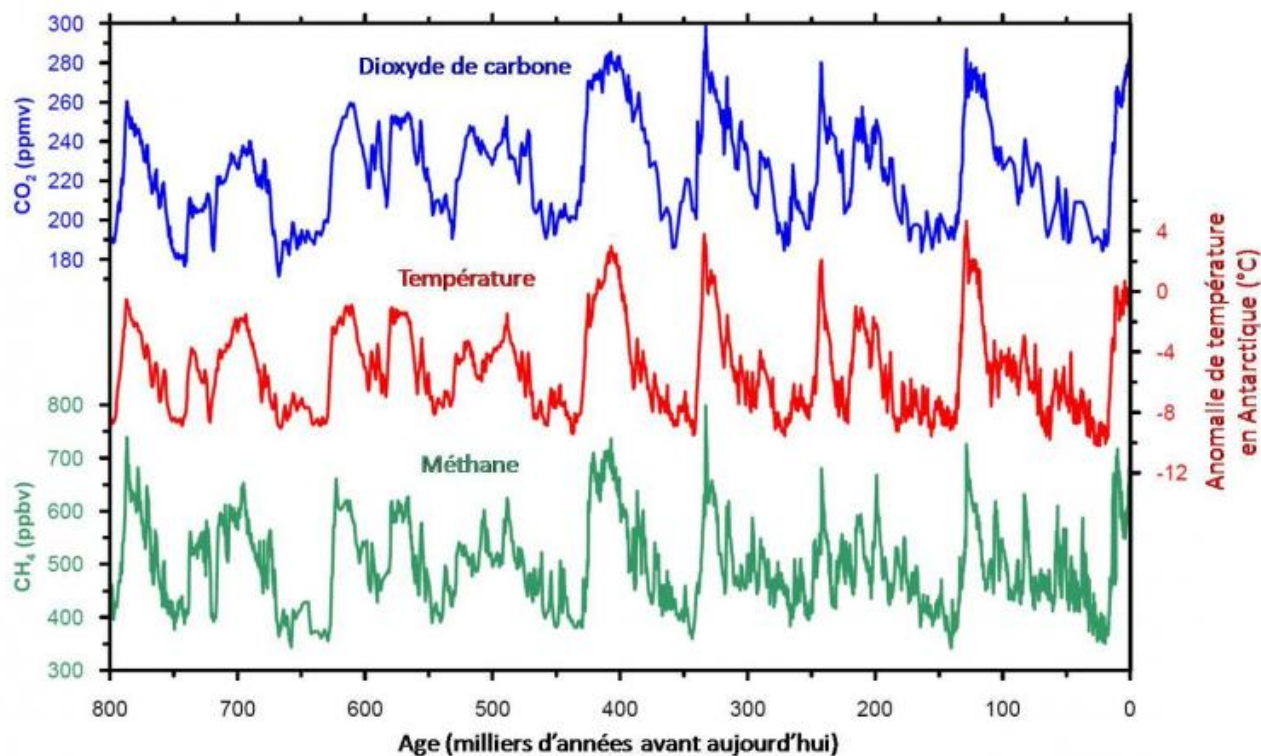
<http://eduterre.ens-lyon.fr/thematiques/energie/le-methane>

DOCUMENT 2 – Variation des températures passées par rapport aux températures actuelles (en °C) et variations des taux de méthane (CH₄) et dioxyde de carbone.

Ces résultats ont été obtenus à partir de l'analyse de carottes glaciaires provenant de plusieurs sites (Vostock, Taylor Dome, EPICA Dome C).

Le CO₂ et le CH₄ sont des gaz à effet de serre.

Les anomalies de température correspondent aux variations par rapport à la moyenne du dernier millénaire.

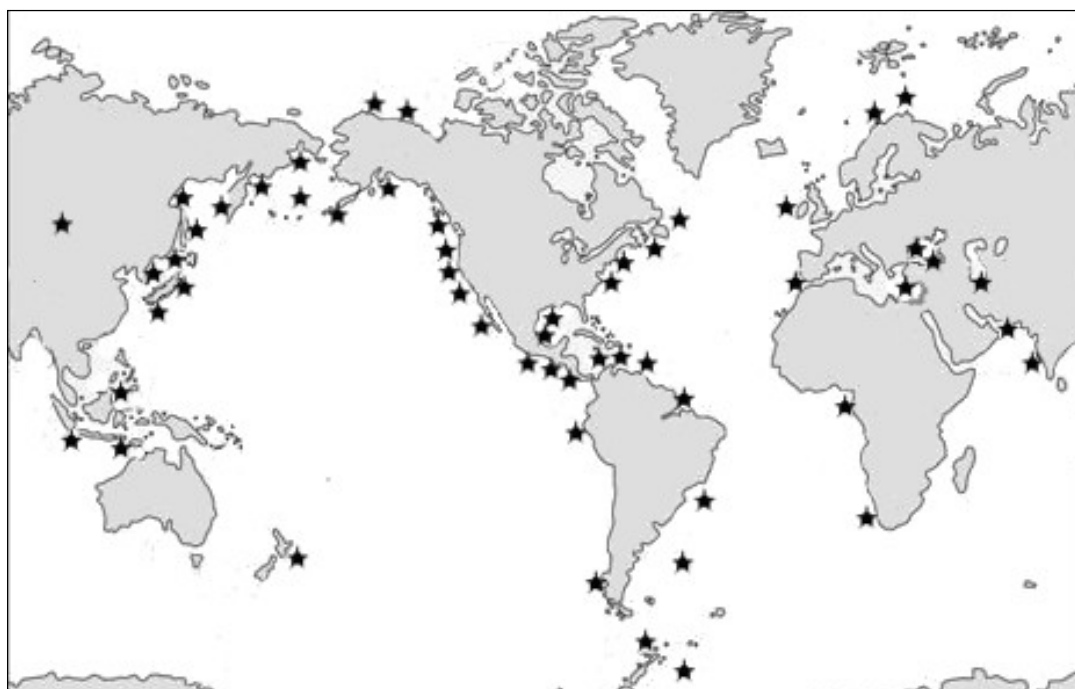


La quantité de CO₂ est donnée en ppmv : partie par millions par volume.

La quantité de CH₄ est donnée en ppbv : partie par milliards (billions) par volume.

D'après EPICA Dôme C. © Université de Berne. LGGE.

DOCUMENT 3 – Distribution mondiale des clathrates de méthane des marges continentales et des lacs.



★ gisements de clathrates de méthane

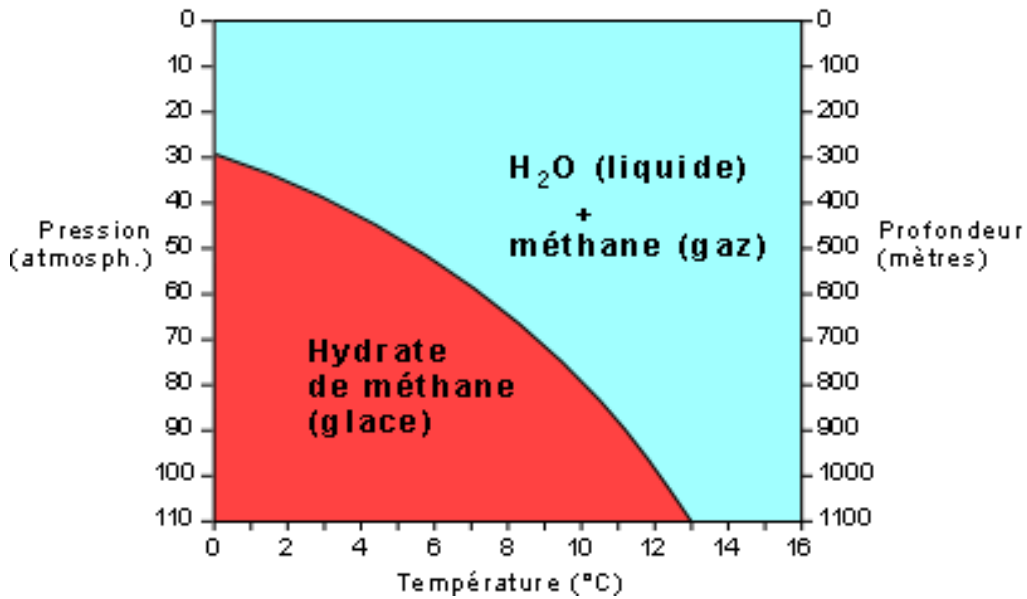
D'après Bohrmann, Greinert et Lausch (Pour la Science, octobre 1999)

Les gisements trouvés au niveau des marges continentales s'expliquent par une accumulation importante de matière organique incorporée dans les sédiments. La matière organique, sous l'action des bactéries anaérobies se transforme en méthane et, sous certaines conditions de température et de pression, en clathrates de méthane.

Par exemple, on trouve des gisements stables de clathrates de méthane à partir de 600 m de profondeur pour des températures de l'eau de 7°C.

D'après http://acces.ens-lyon.fr/acces/terre/CCCIC/ressources/litho_point4

DOCUMENT 4 – Diagramme pression - température des clathrates de méthane ou hydrates de méthane.

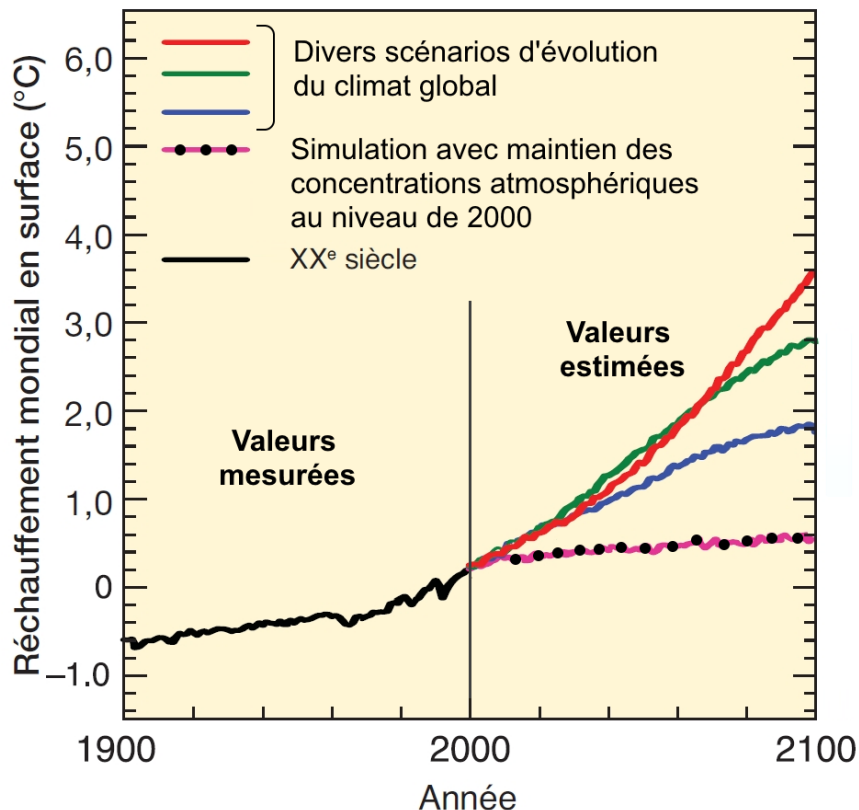


D'après Suess E., Bohrmann G., Greinert J. et Lausch E., Le méthane dans les océans, Pour la science, octobre 1999, n°264, pp. 80-89

DOCUMENT 5 – Différents scénarios d'évolution du climat global.

On rappelle que les températures océaniques sont étroitement liées aux températures atmosphériques. Une augmentation de la température atmosphérique se traduit par une augmentation des températures océaniques, après un certain délai.

Les différentes estimations du GIEC (Groupe d'experts intergouvernemental sur l'évolution du climat) depuis l'année 2000 prennent en compte les concentrations de l'ensemble des gaz à effet de serre et des aérosols présents dans l'atmosphère.



D'après le rapport du GIEC 2007, p.46