

Modèle CCYC : ©DNE

Nom de famille (naissance) :


(Suivi s'il y a lieu, du nom d'usage)

Prénom(s) :

N° candidat : N° d'inscription :

(Les numéros figurent sur la convocation.)

Né(e) le : / /

 Liberté - Égalité - Fraternité
RÉPUBLIQUE FRANÇAISE

1.1

ÉPREUVES COMMUNES DE CONTRÔLE CONTINU

CLASSE : Première

E3C : E3C1 E3C2 E3C3

VOIE : Générale Technologique Toutes voies (LV)

ENSEIGNEMENT : physique-chimie

DURÉE DE L'ÉPREUVE : 2 h

CALCULATRICE AUTORISÉE : Oui Non

Ce sujet contient des parties à rendre par le candidat avec sa copie. De ce fait, il ne peut être dupliqué et doit être imprimé pour chaque candidat afin d'assurer ensuite sa bonne numérisation.

Nombre total de pages : 9

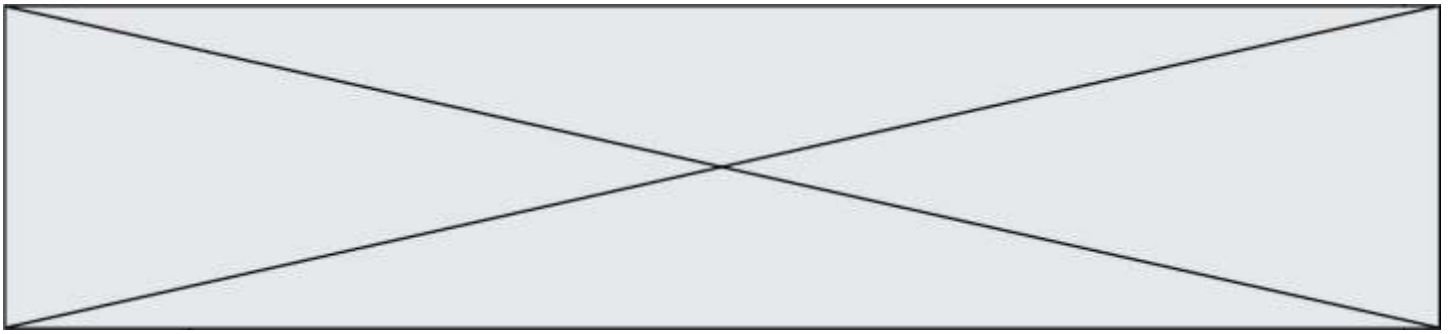
PARTIE A


Les ondes mécaniques (10 points)

Partie 1 : fabriquer des vagues artificielles lors des JO de 2024

Les jeux olympiques représentent un évènement sportif majeur, qui a lieu tous les quatre ans. Paris accueillera les jeux olympiques en 2024, tandis que ceux de 2020 auront lieu à Tokyo.

De nouveaux sports, tels que le surf, ont été ajoutés aux quarante disciplines existantes, ce qui contraint les pays d'accueil à disposer de nouveaux équipements. Ainsi, un projet de piscine à vague sur la Ville de Sevrans, en Île-de-France, est à l'étude et devrait voir le jour en 2023. Il s'agit ici, de construire un parc de loisir, notamment aquatique ; dans lequel viendrait s'intégrer les plans d'eaux olympiques. Concernant la piscine dédiée à la pratique du surf, une technologie inédite permettra d'obtenir 1 000 vagues par heure alors que les technologies des piscines actuelles sont en dessous de cette performance.



Plan du projet de Sevrans
Échelle :  représente 10,5 mètres
source :

www.sevranterredeaux.com

1. Définir d'une onde mécanique.
2. À partir des informations contenues dans l'énoncé, déterminer la valeur de la fréquence des vagues formées, puis en déduire la périodicité temporelle.
3. En exploitant le document ci-dessus, déterminer la période spatiale des vagues formées.
4. En déduire la vitesse de propagation de cette onde.

Partie 2 : les tsunamis aux vagues destructrices

Les tsunamis se forment généralement à la suite de divers phénomènes tels que les éruptions volcaniques sous-marines, les glissements de terrains, les chutes d'astéroïdes dans les océans. Le cas le plus fréquent reste celui des séismes dont l'épicentre se trouve sous l'océan.

En 2011 un séisme de magnitude 9,0 a eu lieu au large du Japon. L'épicentre était localisé sous l'océan Pacifique, à 370 km du Nord-Est du Japon. Les études montrent que l'onde sismique, générée par le mouvement de subduction des deux plaques tectoniques avoisinantes, a atteint la côte japonaise 150 secondes après sa

Modèle CCYC : ©DNE

Nom de famille (naissance) :

(Suivi s'il y a lieu, du nom d'usage)

Prénom(s) :

N° candidat : N° d'inscription :

(Les numéros figurent sur la convocation.)

Né(e) le : / /

Liberté - Égalité - Fraternité
RÉPUBLIQUE FRANÇAISE

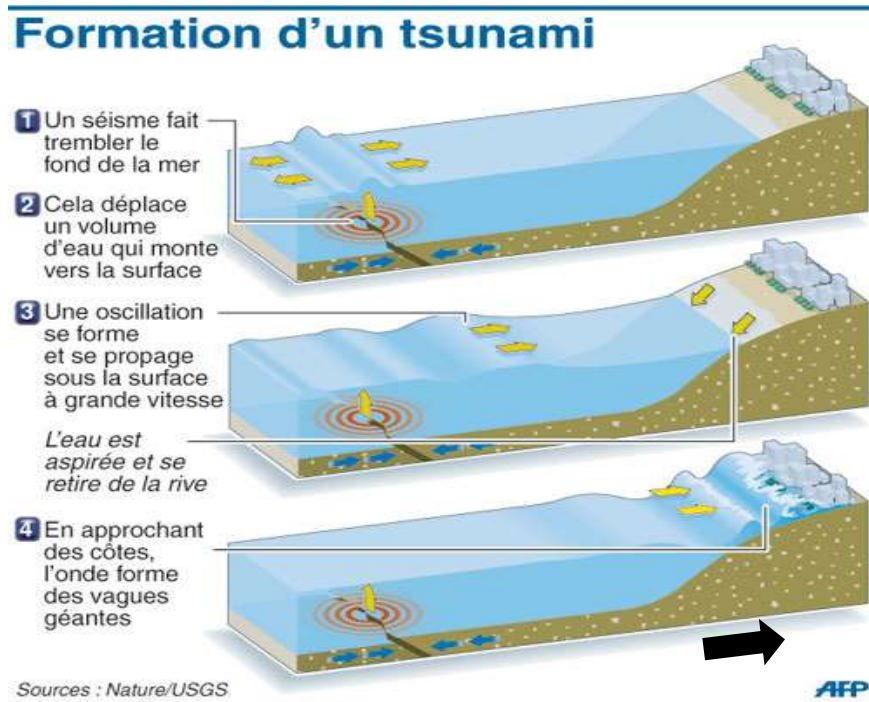
1.1

formation. Le séisme a été ressentie à 14 h 46 min 00 s heure locale soit à 5 h 46 min 00 s dans l'échelle de temps universel.

Ce séisme sous-marin a été à l'origine d'un énorme tsunami qui traversa tout l'océan pacifique. De nombreux pays ont été touchés par la houle. C'est le cas d'une des îles de l'archipel des marquises. En effet, l'île de Nihiu ku Hiva a été touchée à 17 h 49 min 00 s dans l'échelle de temps universel. Cette île se trouve à 9 900 km de l'épicentre du séisme.

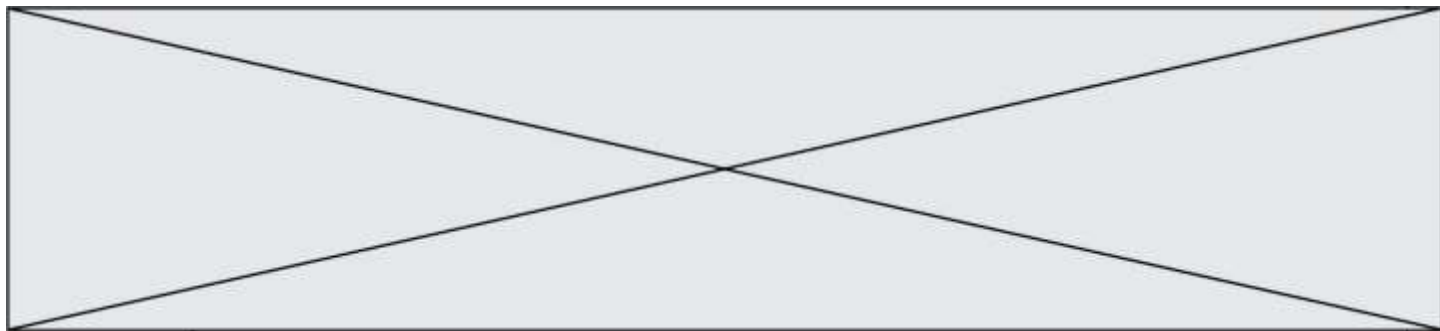
Temps universel : il s'agit de l'heure de référence internationale.

1. Déterminer l'heure à laquelle s'est formé le tsunami au large du Japon.
2. En déduire la valeur de la vitesse moyenne de propagation v_1 de l'onde sismique, l'exprimer en m.s^{-1} .
3. Déterminer la valeur de la vitesse moyenne v_2 de propagation du tsunami en m.s^{-1} .



Échelle : représente 2 km. Source : www.histoire-geo-ensemble.overblog.com

On considère que le document précédant représente le cas du tsunami de Nihiu ku Hiva. En supposant la valeur de la vitesse moyenne v_2 de propagation des vagues à la surface de l'eau constante, déterminer la durée dont dispose un habitant au bord de mer pour se mettre à l'abri dès lors que la mer se retire.



PARTIE B

Entretien de l'eau d'une piscine (10 points)

Des espèces chimiques à base de chlore sont largement utilisées dans le traitement des eaux de piscine car ce sont des produits bon marché, aisément disponibles et faciles à manipuler. L'espèce chimique chlorée active, appelée « chlore libre », se présente sous la forme d'acide hypochloreux de formule $\text{HClO}_{(\text{aq})}$. Grâce à ses pouvoirs oxydant et germicide, utilisé en quantité adaptée, le « chlore libre » détruit les microorganismes et assure ainsi une stérilisation efficace de l'eau des piscines. Une brochure éditée par l'Agence Régionale de Santé pour l'entretien des piscines (<http://www.paca.ars.sante.fr/>) indique que pour un traitement et une désinfection efficace par chloration d'une eau de piscine, la concentration en masse du « chlore libre » doit être comprise entre 2 et 4 $\text{mg}\cdot\text{L}^{-1}$.

L'objectif de cet exercice est d'étudier une méthode de détermination de la concentration en « chlore libre » d'une eau de piscine et de vérifier son domaine de validité en référence aux indications fournies par un fabricant de produits pour eau de piscine.

D'après une fiche produit de la marque hth® :

PASTILLES DPD POUR PHOTOMETRE BENEFICES PRODUIT

Réactif pour mesure du Chlore libre (s'utilise avec un photomètre)



CARACTERISTIQUES

Boîte de 100 pastilles d'analyse

Réactifs en pastilles pré-dosés de 5,0 mg

MODE D'EMPLOI

Procédure d'Analyse (avec photomètre)

- Initialiser le photomètre et s'assurer que le paramètre est réglé sur Chlore.
- Rincer 2 fois le tube TEST avec l'eau à analyser, le vider et y laisser 2 ou 3 gouttes d'eau.
- Ajouter un comprimé DPD, l'écraser avec le pilon/agitateur et remplir le tube jusqu'au trait 10 mL. Mélanger jusqu'à dissolution complète du réactif.
- Insérer immédiatement le tube dans la chambre de mesure car le résultat peut varier en cas d'attente.
- Appuyer sur LIRE TEST pour lire le résultat.

Recommandation importante : Pour une concentration en acide hypochloreux HClO supérieure à 7,0 mg/L l'échantillon contenant le réactif DPD est susceptible de se décolorer et de conduire à un résultat faux. Dans ce cas, l'absorbance de la solution n'est alors plus proportionnelle à la concentration en masse en « chlore libre ».

Modèle CCYC : ©DNE

Nom de famille (naissance) :

(Suivi s'il y a lieu, du nom d'usage)

Prénom(s) :

N° candidat : N° d'inscription :

(Les numéros figurent sur la convocation.)

Né(e) le : / /

Liberté - Égalité - Fraternité
RÉPUBLIQUE FRANÇAISE

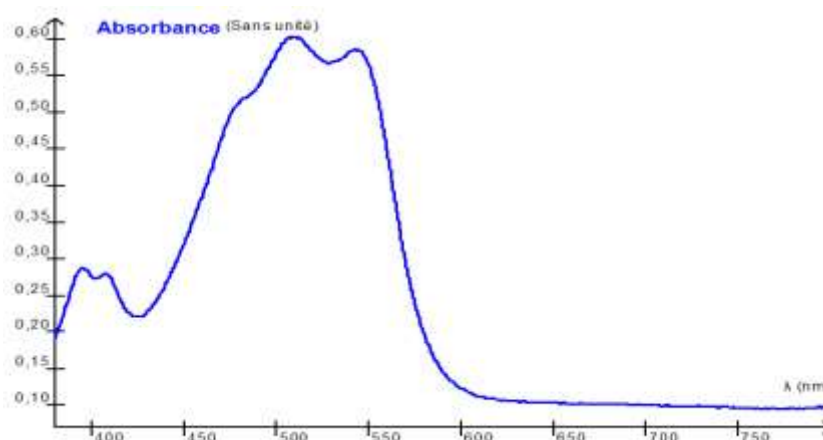
1.1

Données :

Masses molaires atomiques en $\text{g}\cdot\text{mol}^{-1}$:

H	C	N	O	Cl
1,0	12,0	14,0	16,0	35,5

Spectre d'absorption de l'espèce chimique colorée E obtenue par réaction entre le chlore libre et la DPD



Intervalle de longueur d'onde de la radiation absorbée, couleur perçue et couleur

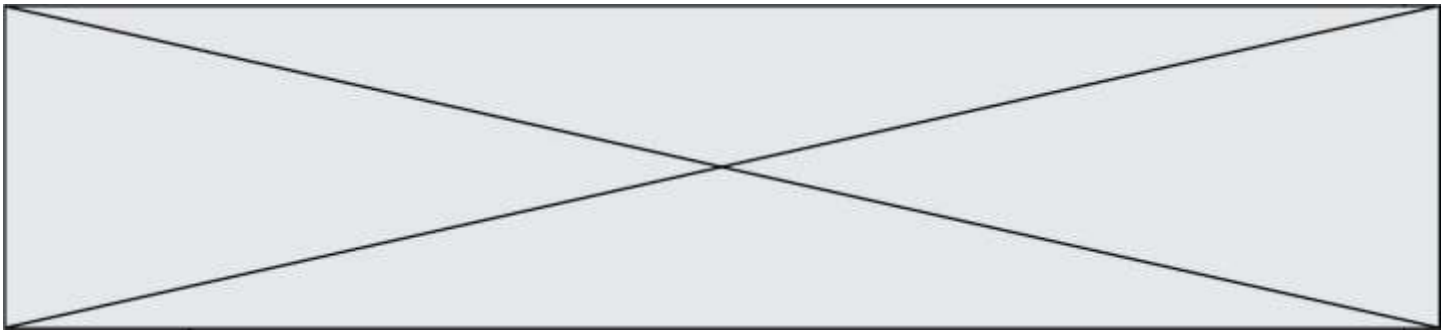
Longueur d'onde de la radiation absorbée (nm)	Couleur perçue	Couleur de la radiation absorbée
400-435	jaune-vert	violet
435-480	jaune	bleu
480-490	orangé	vert-bleu
490-500	rouge	bleu-vert
500-560	pourpre	vert
560-580	violet	jaune-vert
580-595	bleu	jaune
595-625	vert-bleu	orangé
625-800	bleu-vert	rouge

absorbée

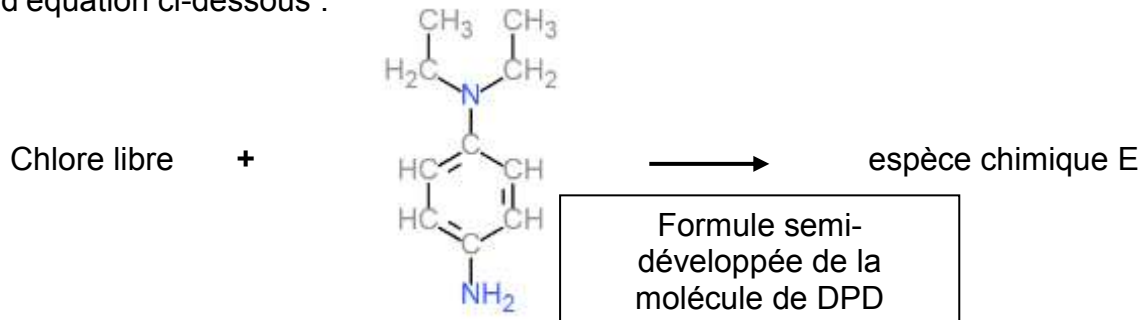
1. Détermination de la concentration en chlore libre d'une piscine

En solution aqueuse le « chlore libre » est incolore, rendant ainsi impossible la détermination de sa concentration à l'œil nu par les particuliers.

La méthode colorimétrique proposée ici est dite " méthode au réactif DPD " (N,N-diéthylphénylène-1,4-diamine). La DPD réagit avec le « chlore libre » pour former une espèce chimique colorée E dont l'intensité de la coloration est proportionnelle à la concentration en chlore libre pour des valeurs inférieures à 7,0 mg/L.



On peut modéliser la formation de l'espèce chimique colorée E par la réaction 1 d'équation ci-dessous :



- 1.1. Déterminer la couleur perçue de l'espèce chimique E produite lors de la réaction 1. Justifier.
- 1.2. Déterminer la masse molaire de la DPD et la quantité de matière de la DPD contenue dans une pastille de 5,0 mg de DPD.
- 1.3. Montrer que la recommandation importante du fabricant du photomètre, permet d'affirmer que la quantité de matière de chlore libre présente dans un tube test de 10 mL ne doit pas dépasser $1,3 \times 10^{-6}$ mol.
- 1.4. Compléter le tableau d'avancement, en annexe 1 à rendre avec la copie, par des valeurs numériques, pour un tube test contenant $1,3 \cdot 10^{-6}$ mol de chlore libre et une pastille de DPD.
- 1.5. Sachant que la DPD doit toujours être introduite en excès par rapport au chlore libre pour effectuer le test, justifier que l'utilisation d'une seule pastille est suffisante.

2. Domaine de validité indiqué par le fabricant de produits pour traitement de l'eau de piscine.

Au laboratoire, on se propose de vérifier l'indication du fabricant : « Au-delà de 7 mg.L^{-1} les résultats du test peuvent s'avérer faux ».

A partir d'une solution de « chlore libre » de concentration en masse $C_1 = 20 \text{ mg.L}^{-1}$, et de pastilles de DPD on prépare diverses solutions S_i dont on mesure l'absorbance A avec un spectrophotomètre.

Solution	S_1	S_2	S_3	S_4	S_5	S_6	S_7	S_8	S_8	S_{10}
$C_m(\text{HClO})$ en mg.L^{-1}	20	15	10	8,0	6,0	5,0	4,0	3,0	2,0	1,0
Absorbance	1,68	1,70	1,66	1,58	1,41	1,19	0,87	0,62	0,43	0,25

2.1. À partir de la liste ci-dessous, choisir la verrerie nécessaire à la préparation de la solution S_7 à partir de la solution S_1 . Justifier.

- Burette graduée de 25 mL
- Fioles jaugées : 50,0 mL et 100,0 mL

Modèle CCYC : ©DNE

Nom de famille (naissance) :

(Suivi s'il y a lieu, du nom d'usage)

Prénom(s) :

N° candidat : N° d'inscription :

(Les numéros figurent sur la convocation.)

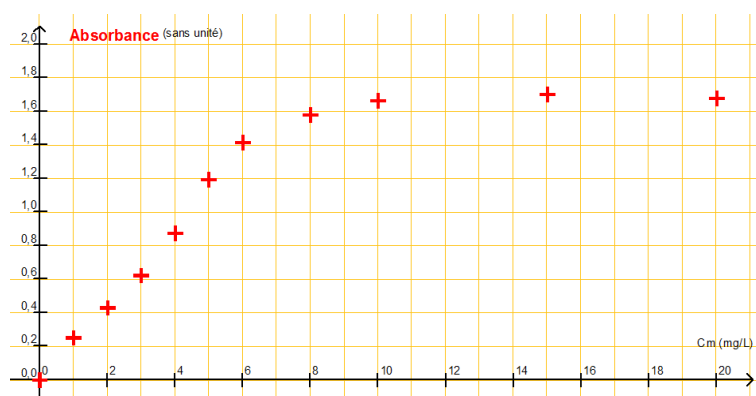
Né(e) le : / /

Liberté - Égalité - Fraternité
RÉPUBLIQUE FRANÇAISE

1.1

- Bécher de 50 mL
- Pipette graduée de 10,0 mL
- Pipettes jaugées de 5,0 mL et 10,0 mL
- Éprouvette graduée

À l'aide d'un logiciel tableur-grapheur, on obtient la représentation de l'absorbance A en fonction de la concentration en masse en « chlore libre » ci-après.



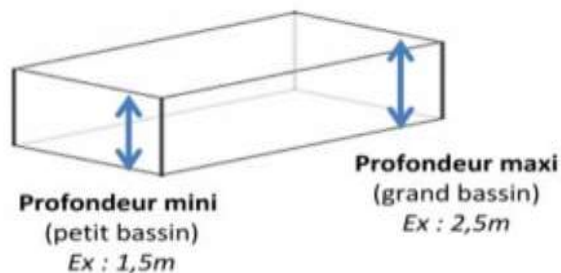
2.2. Cette représentation est-elle en accord avec la recommandation du fabricant ? Justifier votre réponse par un tracé sur l'annexe 2 à rendre avec la copie.

2.3. Donner le nom de la loi mise en évidence en précisant son domaine de validité.

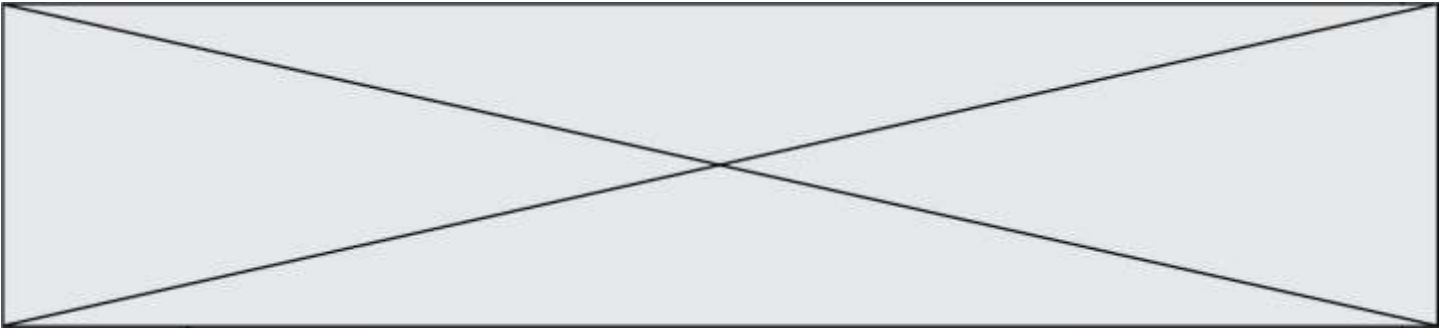
3. Détermination de la concentration en « chlore libre » d'une eau de piscine

Une eau de piscine est testée par un particulier à l'aide du photomètre hth[®]. Il obtient une valeur de $1,5 \text{ mg.L}^{-1}$ de « chlore libre ». Au laboratoire, pour la même eau, la mesure de l'absorbance effectuée en suivant la procédure d'analyse décrite ci-dessus donne une valeur $A = 0,30$.

3.1. Comparer les valeurs des concentrations en masse en « chlore libre » obtenues par les deux méthodes. La concentration en masse en « chlore libre » est-elle suffisante pour assurer une stérilisation efficace de la piscine ? Justifier.



3.2. Sachant que la piscine mesure 8,0 m de longueur sur 4,0 m de largeur et que sa profondeur varie en pente régulière de 1,5 m à 2,5 m, déterminer le nombre de galets de 20 g de chlore libre conviendrait-il de rajouter.



Modèle CCYC : ©DNE

Nom de famille (naissance) :

(Suivi s'il y a lieu, du nom d'usage)

Prénom(s) :

N° candidat : N° d'inscription :

(Les numéros figurent sur la convocation.)

Né(e) le : / /

Liberté - Égalité - Fraternité
RÉPUBLIQUE FRANÇAISE

1.1

Annexe à rendre avec la copie

➤ Annexe 1 : question 1.4.

Équation de la réaction		Chlore libre	+	DPD	→	espèce chimique E
État :	Avancement en mol	$n_{(\text{Chlore libre})}$		$n_{(\text{DPD})}$		$n_{(\text{Espèce E})}$
initial	0					
intermédiaire	x					
final	X_{max}					

➤ Annexe 2 : question 2.2.

Absorbance A en fonction de la concentration en masse $C_{m(\text{HClO})}$ en mg.L^{-1}

