

Modèle CCYC : ©DNE

Nom de famille (naissance) :

(Suivi s'il y a lieu, du nom d'usage)

Prénom(s) :

N° candidat :

N° d'inscription :



Liberté • Égalité • Fraternité  
RÉPUBLIQUE FRANÇAISE

Né(e) le :

(Les numéros figurent sur la convocation.)

1.1

## ÉPREUVES COMMUNES DE CONTRÔLE CONTINU

**CLASSE** : Première

**E3C** :  E3C1  E3C2  E3C3

**VOIE** :  Générale  Technologique  Toutes voies (LV)

**ENSEIGNEMENT** : Sciences de l'ingénieur

**DURÉE DE L'ÉPREUVE** : 2h00

Niveaux visés (LV) : LVA LVB

Axes de programme :

- Analyser le besoin d'un produit par une démarche d'ingénierie système
- Analyser l'organisation matérielle d'un produit par une démarche d'ingénierie système
- Analyser l'organisation fonctionnelle d'un produit par une démarche d'ingénierie système
- Caractériser la puissance nécessaire au fonctionnement d'un produit ou un système
- Caractériser l'énergie nécessaire au fonctionnement d'un produit ou un système
- Traduire le comportement attendu ou observé d'un objet par une structure algorithmique
- Traduire le comportement attendu ou observé d'un objet par un diagramme d'états-transitions
- Modéliser sous une forme graphique une structure, un mécanisme, un circuit
- Modéliser les mouvements
- Caractériser les échanges d'informations
- Associer un modèle à un système asservi
- Déterminer les grandeurs flux (courant) et effort (tension) dans un circuit électrique
- Déterminer les grandeurs géométriques et cinématiques d'un mécanisme
- Identifier les erreurs de mesure
- Rendre compte de résultats

**CALCULATRICE AUTORISÉE** :  Oui  Non

**DICTIONNAIRE AUTORISÉ** :  Oui  Non

- Ce sujet contient des parties à rendre par le candidat avec sa copie. De ce fait, il ne peut être dupliqué et doit être imprimé pour chaque candidat afin d'assurer ensuite sa bonne numérisation.
- Ce sujet intègre des éléments en couleur. S'il est choisi par l'équipe pédagogique, il est nécessaire que chaque élève dispose d'une impression en couleur.
- Ce sujet contient des pièces jointes de type audio ou vidéo qu'il faudra télécharger et jouer le jour de l'épreuve.

**Nombre total de pages** : 11



SUJET SI-E3C-25-02

## Constitution du sujet

- **Étude d'une performance du produit**..... Pages 4 à 6
- **Commande du fonctionnement du produit ou modification de son comportement** ..... Pages 7 à 8
- **Documents réponses** ..... Pages 9 à 11

### Rappel du règlement de l'épreuve

Le sujet comporte deux exercices indépendants l'un de l'autre, équilibrés en durée et en difficulté, qui s'appuient sur un produit unique.

Un premier exercice s'intéresse à l'étude d'une performance du produit. Les candidats doivent mobiliser leurs compétences et les connaissances associées pour qualifier et/ou quantifier cette performance, à partir de l'analyse, de la modélisation de tout ou partie du produit ou de relevés expérimentaux.

Le second exercice porte sur la commande du fonctionnement du produit ou la modification de son comportement. L'étude s'appuie sur l'algorithmique et de la programmation, à partir de ressources fournies au candidat qu'il devra exploiter, compléter ou modifier.

## Présentation du Produit

Stéphane Rachmulh et Antoine d'Acremont, deux entrepreneurs français férus de bicyclette, ont trouvé la solution pour transformer n'importe quel vélo en vélo à assistance électrique (VAE). Leur concept : Rool'in.

Le Rool'in est une **roue électrique amovible** que vous pouvez installer sur votre vélo. Elle remplace la roue avant de votre bicyclette.

Modèle CCYC : ©DNE

Nom de famille (naissance) :

(Suivi s'il y a lieu, du nom d'usage)

Prénom(s) :

N° candidat :

N° d'inscription :



Liberté • Égalité • Fraternité  
RÉPUBLIQUE FRANÇAISE

Né(e) le :

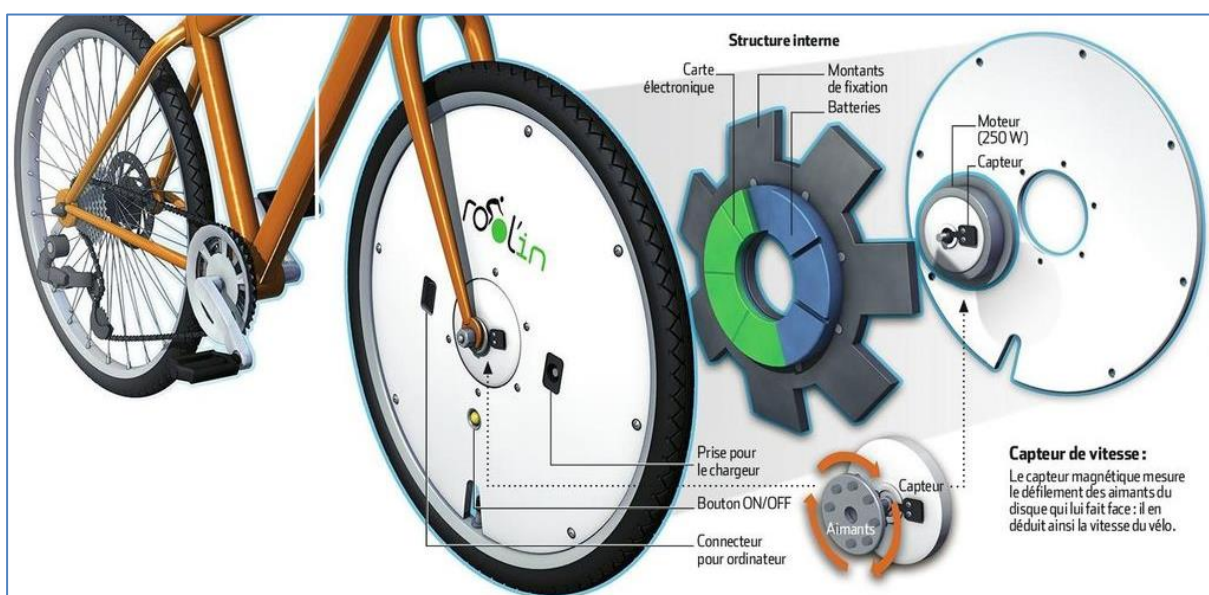
(Les numéros figurent sur la convocation.)

1.1



Le système Rool'in se compose d'une roue avant dont le moyeu contient un moteur électrique, des batteries et un capteur de vitesse, d'un détecteur de pédalage, d'un détecteur de freinage et d'une console électronique. Dès qu'un mouvement de pédalage est détecté, la console électronique transmet, par WiFi, l'ordre au moteur électrique de se mettre à tourner.

Le moteur fournit ainsi une assistance électrique tant que la vitesse, surveillée par le capteur intégré dans la roue, ne dépasse pas  $25 \text{ km}\cdot\text{h}^{-1}$ , la limite légale autorisée en Europe.





## Étude d'une performance du produit

**Problématique** : la batterie du Rool'in permet-elle de satisfaire les attentes des usagers en matière d'autonomie ?

La roue Rool'in, comme tous les vélos à assistance électrique, fait l'objet d'une certification afin d'être classée dans la catégorie cycle et non cyclomoteur (catégorie nécessitant le port d'un casque et la prise d'une assurance particulière).

Cette certification impose trois contraintes :

- arrêt du moteur dès que le cycliste arrête de pédaler ou freine,
- arrêt du moteur lorsque la vitesse atteint ou dépasse  $25 \text{ km}\cdot\text{h}^{-1}$ ,
- puissance de la motorisation inférieure ou égale à  $250 \text{ W}$ .

De façon à pouvoir comparer les performances de différents vélos à assistance électrique, les essais sont réalisés sur circuits standardisés représentatifs de différentes configurations d'utilisation des vélos.

Le circuit utilisé pour réaliser les essais ci-dessous est le suivant :

- sol en revêtement bitume,
- sol sec,
- pas de pente,
- pas de vent.

Les graphiques ci-dessous montrent l'évolution de la vitesse du V.A.E et du courant moteur au cours du temps lors d'un cycle sur le circuit décrit ci-dessus. La durée du cycle est 90 secondes. Le cycle commence à la date  $t=10 \text{ s}$ . Le niveau d'assistance demandé est maximal.

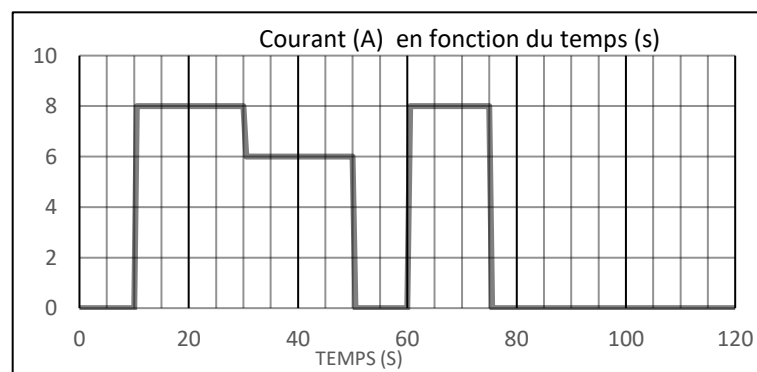


Figure 1-1 : évolution du courant moteur en fonction du temps

Modèle CCYC : ©DNE

Nom de famille (naissance) :  
(Suivi s'il y a lieu, du nom d'usage)

--	--	--	--	--	--	--	--	--	--	--	--	--	--	--	--	--	--	--	--	--

Prénom(s) :

--	--	--	--	--	--	--	--	--	--	--	--	--	--	--	--	--	--	--	--	--

N° candidat :

--	--	--	--	--	--	--	--	--	--	--	--	--	--	--	--	--	--	--	--	--

N° d'inscription :

--	--	--	--



Né(e) le :

(Les numéros figurent sur la convocation.)

		/			/						
--	--	---	--	--	---	--	--	--	--	--	--

1.1

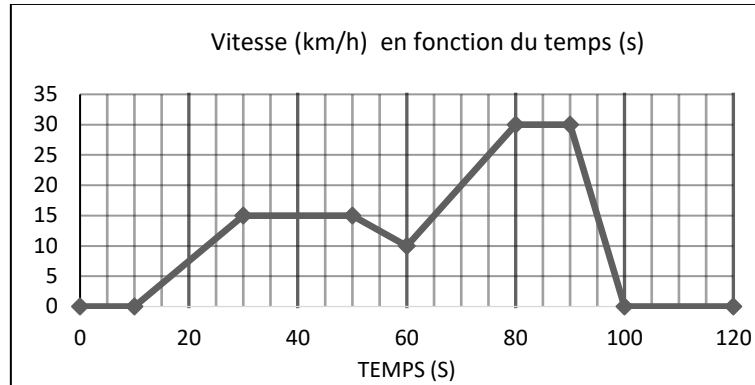


Figure 1-2 : évolution de la vitesse du VAE en fonction du

Question I-1 A partir du graphique de la vitesse du vélo au cours du temps, lors d'un cycle, **compléter**, sur le document réponse DR1 QI-1, le tableau par des croix pour indiquer le type de mouvement et l'état de l'assistance. **Calculer** la distance parcourue par le vélo.

La batterie du Rool'in est composée d'accumulateurs Lithium-ion. La capacité de la batterie est de 17 A·h et la tension à ses bornes est de 30 V.

Rappel : Energie (Wh) = Capacité (A·h) x Tension (V)

Question I-2 **Calculer** la quantité d'énergie stockée dans la batterie. Pour éviter une décharge profonde de la batterie, on limitera le taux de décharge à 80%. **Calculer** l'énergie exploitable dans la batterie.

Le constructeur indique que l'autonomie de la roue est comprise entre 40 et 60 km en fonction du niveau d'assistance choisie.

Question I-3 A partir du graphique du courant en fonction du temps et sachant que la tension aux bornes de la batterie est de 30 V, **calculer** l'énergie nécessaire à la réalisation de ce cycle ainsi que l'autonomie du vélo en heure, puis en kilomètres s'il ne parcourt que des cycles identiques à celui présenté. **Comparer** vos résultats avec les performances attendues.

En 2017, la start-up Rool'in a commercialisé une roue électrique motorisée équipée de cellules photovoltaïques pour étendre son autonomie. Se rechargeant automatiquement aussi bien à l'arrêt qu'en mouvement, ses créateurs assurent pouvoir vous faire gagner jusqu'à 20 km d'autonomie quotidienne en fonction de l'exposition.



Pour mettre en évidence les transferts d'énergie et d'information entre les constituants du la roue Rool'in, un diagramme de flux a été tracé sur le DR1 QI-4.



Question I-4 Sur DR1 QI-4, **associer** les noms des composants aux numéros correspondants sur le tableau proposé. **Compléter** les cases vides sous les liens de puissance avec la nature de ce lien avec les mentions suivantes : Mécanique (M) ou Electric (E).

Le diagramme ci-dessous représente les caractéristiques courant-tension d'une des 24 cellules utilisées sur la roue Rooll'in :

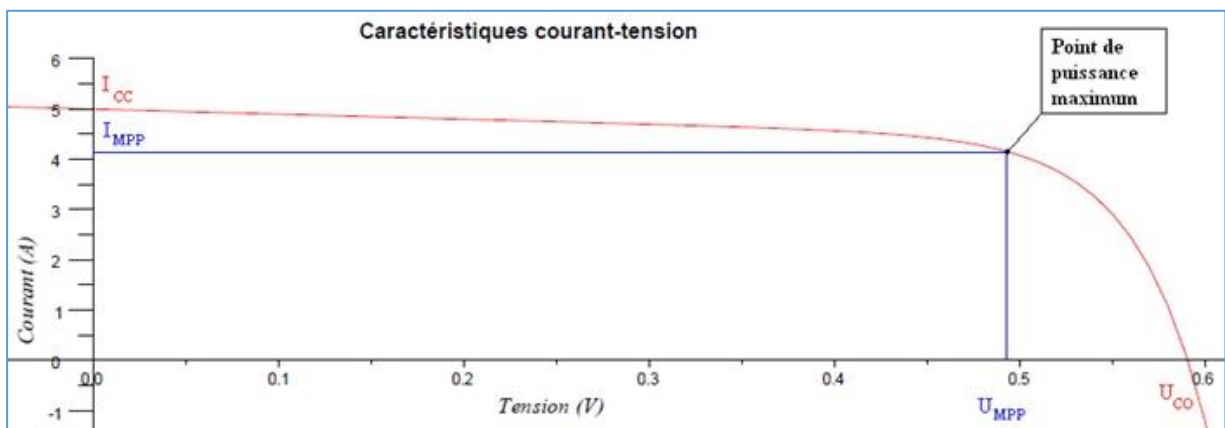


Figure 1-3 : Caractéristique courant/tension d'une cellule

Question I-5 A partir du diagramme ci-dessous, **relever** le courant  $I$  et la tension  $U$  au point de puissance maximum. Sachant que la roue dispose, sur chaque face de 12 cellules photovoltaïques, **comment doit-on les brancher** (série ou parallèle) pour que chaque face puisse générer une différence de potentiel environ égale à 6 V ?

L'énergie supplémentaire stockée issue des cellules photovoltaïques à Copenhague est 140 Wh ce qui garantit une autonomie kilométrique de 20 km supplémentaires pour la période de mars à octobre. Vous considérerez qu'une seule face est exposée au soleil et toutes les cellules fournissent un courant  $I_{MPP}$  lu sur la caractéristique courant-tension.

Question I-6 **Calculer** le temps d'exposition solaire en heure permettant d'atteindre 140 Wh. **Conclure** sur l'intérêt des panneaux pour augmenter l'autonomie.

Modèle CCYC : ©DNE

Nom de famille (naissance) :


(Suivi s'il y a lieu, du nom d'usage)

Prénom(s) :

N° candidat :  N° d'inscription :

(Les numéros figurent sur la convocation.)

Né(e) le :  /  /

 Liberté • Égalité • Fraternité  
RÉPUBLIQUE FRANÇAISE

1.1

## Commande du fonctionnement du produit ou modification de son comportement

**Problématique** : comment sont calculées les grandeurs affichées sur la console Roof'in ?

Question II-1 A partir de la présentation du produit et du diagramme de séquence du document réponse DR2, **associer**, dans le tableau sur le document DR2 QII-1, à chaque message son numéro présent dans le diagramme de séquence.

Question II-2 **Faire correspondre** les repères a, b, c, d avec les transitions proposées du diagramme d'étape-transition de fonctionnement du V.A.E Roof'in sur le document réponse DR2 QII-2.

La roue avant motorisée est équipée de 16 aimants sur la partie tournante, et d'un capteur à effet Hall ( $Capt\_H$ ) sur la partie fixe. Le passage d'un aimant devant le capteur déclenche en sortie une impulsion à l'état haut (figure 2-1). On donne le diamètre de la roue :  $D_r = 0,7$  m.

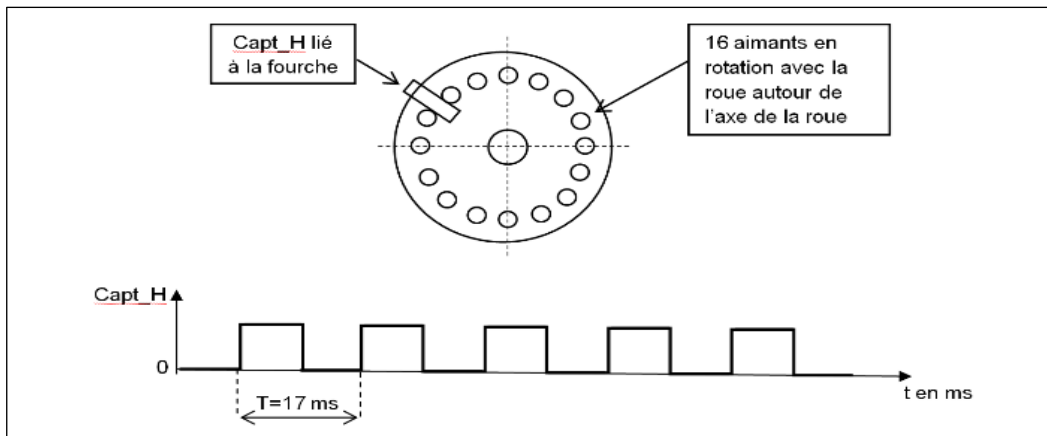


Figure 2-1 : Chronogramme de Capt\_H

Question II-3 **Expliquer** d'après la figure 2-1, pourquoi la vitesse du vélo par rapport au sol est bien constante au cours de 5 périodes représentées.

Question II-4 **Calculer** la distance parcourue par le vélo sur ces 5 périodes. **En déduire** la distance  $D_{imp}$  en m/impulsion (une impulsion équivaut à une période).

On définit la valeur moyenne de la vitesse, en  $\text{km}\cdot\text{h}^{-1}$ , du vélo par rapport au sol sur le trajet en cours :



$$V_{moy} = \frac{\text{Distance parcourue en mètre}(Dt)}{\text{temps de parcours en seconde}(tps)} \cdot 3,6$$

La vitesse instantanée  $V_{inst}$  est définie comme la vitesse évaluée au cours de la dernière seconde en  $\text{km}\cdot\text{h}^{-1}$  :

$$V_{inst} = \frac{\text{Distance parcourue en mètre au cours de la dernière seconde}(D1s)}{1s} * 3,6$$

On appellera  $Dt\_km$ , la valeur de  $Dt$  exprimée en km.

Les termes entre parenthèses correspondent à leur expression symbolique à utiliser par la suite.

Le programme en charge du calcul et de l'affichage des grandeurs  $Dt\_km$ ,  $V_{moy}$  et  $V_{inst}$  est composé de deux tâches logicielles distinctes :

- un sous-programme d'interruption qui se déclenche à chaque front montant de  $Capt\_H$ , gère l'incrémentation d'un compteur  $N$  ;
- une tâche de fond, qui se déclenche toutes les secondes qui réalise le calcul et l'affichage des grandeurs précisées. On appellera  $N_0$ , la valeur  $N$  lors du précédent appel de la tâche de fond, une remise à jour de  $N_0$  par  $N$  sera effectuée. En début de trajet,  $N$  et  $N_0$  sont initialisées à 0 (tâche non traitée ici).

Question II-5 **Compléter**, dans les cases repérées en trait fort sur le document réponse DR2 QII-5, le sous-programme d'interruption et la tâche de fond en fonction des indications précédentes.

On cherche à estimer l'autonomie kilométrique  $A_{km}(tps)$  à l'instant  $tps$  dont dispose l'utilisateur au cours de son trajet. On appelle  $E_0$  l'énergie initiale exploitable dans les batteries exprimée en Joule,  $E(tps)$  l'énergie restante dans les batteries à l'instant  $tps$ . L'équation de la décharge de la batterie est :  $E(tps) = E_0 - U \cdot I_{moy} \cdot tps$

avec  $U$  = tension nominale des batteries supposée constante et  $I_{moy}$  valeur moyenne du courant calculée depuis le début du parcours.

On notera  $tps_f$  la valeur de  $tps$  pour laquelle la batterie est vide  $E(tps_f)=0$ , que l'on peut déterminer par l'équation de la décharge précédente. On supposera  $V_{moy}$  établie précédemment reste constante pour la suite du parcours.

Question II-6 **Exprimer**  $A_{km}(tps)$  en fonction de  $tps$  et des grandeurs constantes  $E_0$ ,  $U$ ,  $I_{moy}$  et  $V_{moy}$ . **Justifier** en quoi l'autonomie kilométrique est une grandeur estimée.



Modèle CCYC : ©DNE

Nom de famille (naissance) :


(Suivi s'il y a lieu, du nom d'usage)

Prénom(s) :

N° candidat :  N° d'inscription :

(Les numéros figurent sur la convocation.)

Né(e) le :  /  /



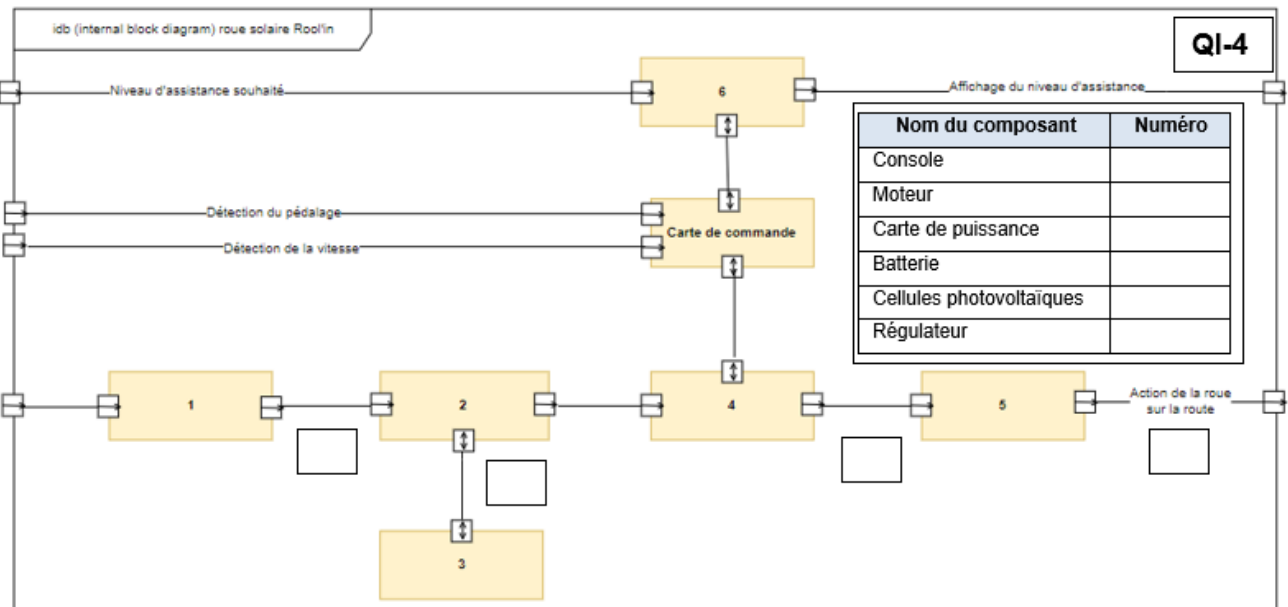
1.1

## Documents Réponse DR1

### QI-1

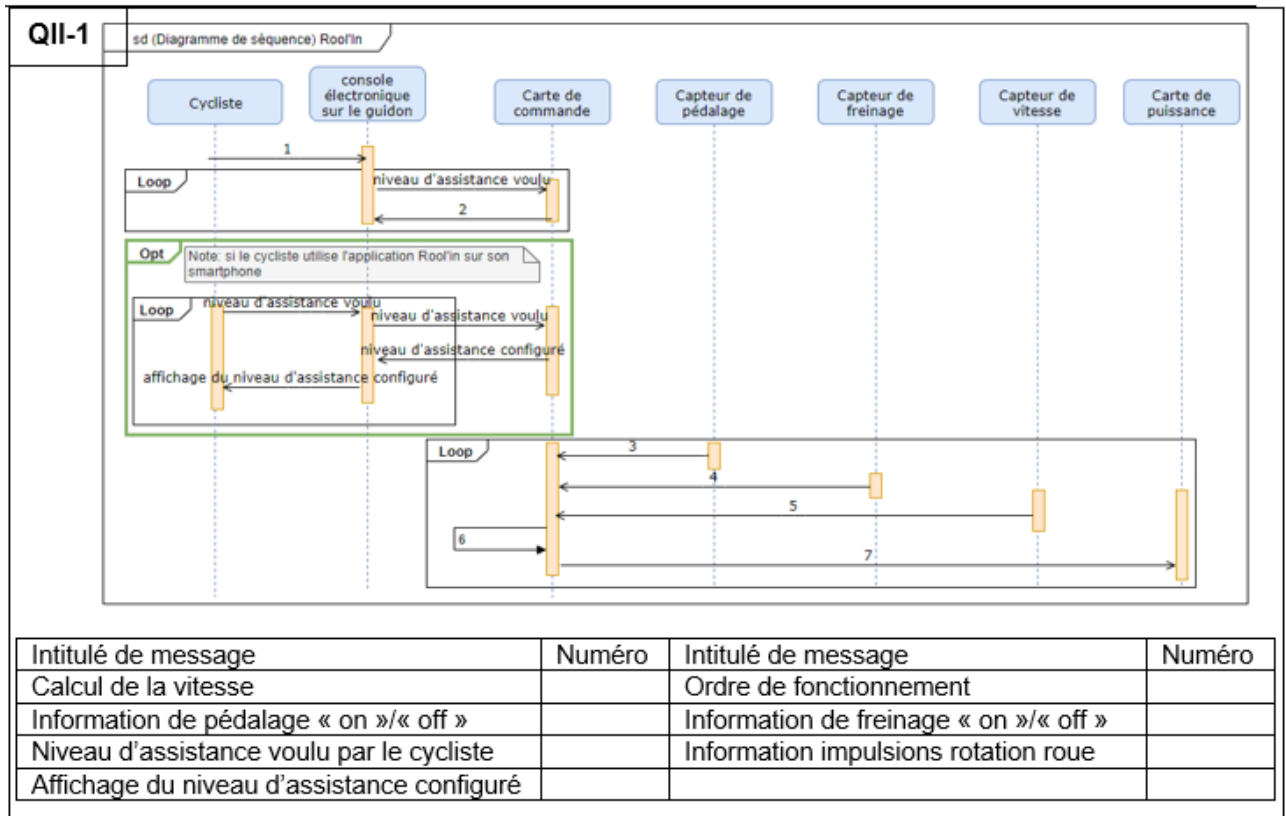
	Analyse du mouvement			Assistance électrique	
	Vitesse constante	Accélération	Décélération	Active	Inactive
De 10 à 30s					
De 30 à 50s					
De 50 à 60s					
De 50 à 65s					
De 60 à 75s					
De 75 à 80s					
De 80 à 90s					
De 90 à 100s					

### QI-4





## Document Réponse DR2



Modèle CCYC : ©DNE

Nom de famille (naissance) :

(Suivi s'il y a lieu, du nom d'usage)

Prénom(s) :

N° candidat :

N° d'inscription :

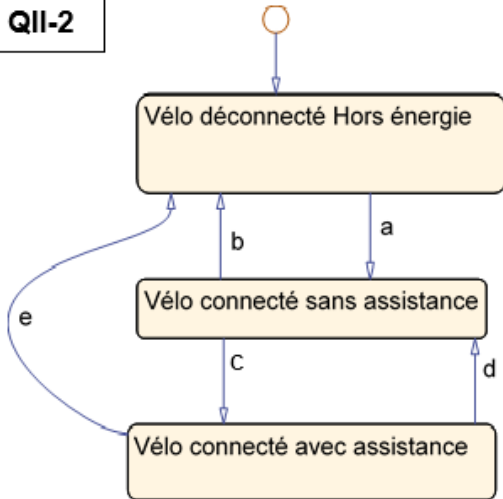


Né(e) le :

(Les numéros figurent sur la convocation.)

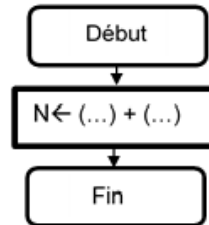
1.1

Q11-2



Transitions	Rep
Détection pédalage	
Power Off	e
Power Off	
(Power On) ET (Wifi On) ET (Niveau assistance validé)	
(Vitesse > 25 km/h) OU Freinage OU ((Détection pédalage) pendant 5 s)	

Sous-programme d'interruption exécuté à chaque front montant de Capt H.



$$V_{inst} \leftarrow ((.....) - (.....)) \cdot D_{imp} \cdot 3,6$$

$$N_0 \leftarrow (.....)$$

$$tps \leftarrow (.....) + (.....)$$

$$D_{t\_km} \leftarrow (.....) \cdot D_{imp} / (.....)$$

$$V_{moy} \leftarrow D_{t\_km} \cdot (.....) / (.....)$$

Affichage de  $V_{inst}$ ,  $D_{t\_km}$ ,  $V_{moy}$  sur la console

Fin